

## 平安時代出題まとめ

問 桓武天皇について述べた文として適当なものを、次のア～エの中から一つ選びなさい。2015 福島

- ア 坂上田村麻呂を征夷大將軍に任命し、東北地方に大軍を送って朝廷の支配を広げた。
- イ 新たに開墾した土地を永久に私有することを認める墾田永年私財法を定めた。
- ウ 戸籍に登録された6歳以上の男女に口分田を与える制度として、班田収授法を定めた。
- エ 仏教の力で国家を守ろうと考え、国ごとに国分寺と国分尼寺をたてた。

答：ア

桓武天皇は、坂上田村麻呂を征夷大將軍に任命し、東北地方の蝦夷の抵抗をおさえ、朝廷の支配を広めようとした。イとエは奈良時代のできごとについて述べた文。ウはイよりも前のできごと。

問 年表中の〔A〕の時期に行われた<sup>せつかん</sup>摂関政治とはどのような政治か、「<sup>せつしやう</sup>摂政」「<sup>かんぱく</sup>関白」の違いを説明しながら、簡潔に書きなさい。また、〔A〕の時期に、現在の茨城県を拠点とし、周辺の武士を率いて、関東一円で乱をおこした人物を、次のア～エの中から一つ選んで、その記号を書きなさい。2013 茨城

- ア <sup>たいらのきよもり</sup>平清盛      イ <sup>ふじわらのみちなが</sup>藤原道長
- ウ <sup>まさかど</sup>平将門      エ <sup>すみとも</sup>藤原純友

西暦	できごと
794	都を <sup>へいあんきやう</sup> 平安京に移す  〔A〕
1086	<sup>いんせい</sup> 院政が始まる

答：説明：天皇が幼少の時は摂政として、成人してからは関白として、藤原氏（摂関家）が実権をにぎった政治。

記号：ウ

摂政は、天皇が女性や幼少の時に天皇に代わって政治を行う。関白は、天皇を補佐して政治を行う。また、10世紀に、関東では平将門が、瀬戸内海では藤原純友が反乱をおこした。

問 平安時代には、漢字を変形させたり、その一部を利用したりして、日本語の発音をあらわせるように工夫した ア 文字が用いられるようになった。2015 福井

答：仮名

平安時代に、漢字をもとにして仮名文字がつけられ、「源氏物語」や「枕草子」など女性による優れた文学作品が生まれた。

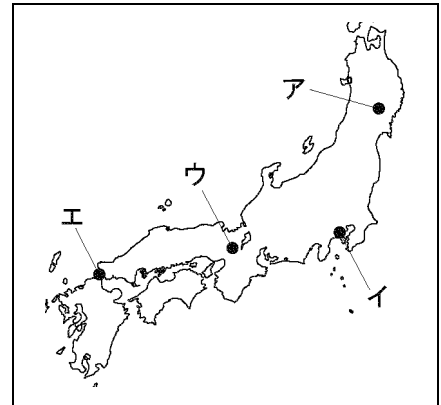
問 源氏物語の作者はだれか。2013 奈良

答：紫式部

問 次の [ ] の文中の [ ] に入る語を書きなさい。また、文中の下線部の戦いが行われた場所を  
 図2のア～エの中から一つ選んで、その記号を書きなさい。2015 茨城

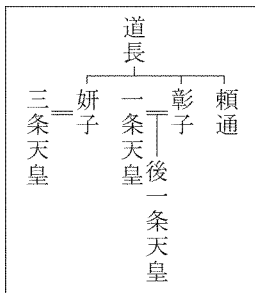
白河天皇は位をゆずって上皇となり、摂政や関白の力をおさえて [ ] と呼ばれる政治を行った。上皇と結びついた平氏や源氏の武士たちは急速に地位を高めた。  
 平清盛は武士として初めて太政大臣となって政治の実権を握った。壇ノ浦の戦いで平氏が滅んだ後、源頼朝は守護・地頭の設置を朝廷に認めさせた。

図2



解答：院政 エ

白河上皇が始めた、上皇となってからも実権をにぎって行った政治を、院政という。壇ノ浦は山口県にある。



問 資料は、藤原氏の系図の一部である。藤原道長が、大きな権力をにぎった理由を、資料を参考にして、簡潔に書きなさい。2014 群馬

解答：(例) 自分の娘を天皇のきさきにし、生まれた子を天皇にしたから。

問 亜矢さんは、日本と世界とのかかわりについて調べ、資料Ⅱを見つけた。資料Ⅱの提案によって決定された、下の [ A ] に当てはまるできごとを書きなさい。2015 群馬

資料Ⅱ 菅原道真の提案

唐に滞在中の僧からの報告には、唐の衰えている様子が詳しく書かれていました。(中略) 唐の状況が報告のようだとしたら、今後のこの事業の苦難は今から思いやられます。(部分要約)

日本のできごと	世界のできごと
・ (a) 縄文土器がつくられる。	・ 各地で文明が生まれる。
【9世紀】 ・ [ A ]	【10世紀】 ・ 唐が滅亡する。

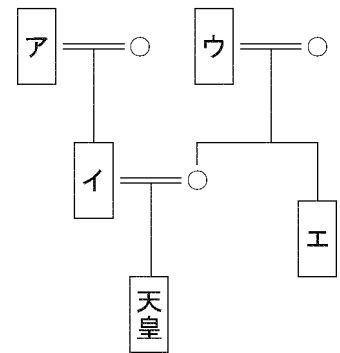
答：遣唐使が停止される。

資料Ⅱで、菅原道真は唐が衰えてきたことを述べている。道真は、平安時代の9世紀末に、7世紀前半から続いていた遣唐使を停止するように進言した。

問 カード4にかかわって、次の各問いに答えなさい。2013 長野

- ① 朝廷のほとんどの官職を一族で独占し、栄華をきわめた気持ちを資料1の和歌によんだ人物がいる。この人物の氏名を書きなさい。
- ② ①の人物が政治の実権をにぎることができた理由は系図にもあらわれている。資料2の系図をみて、資料1の歌をよんだ時点でのこの人物の位置に当てはまるものを、ア～エから1つ選び、記号を書きなさい。

資料2



○は女性、＝は婚姻関係を表す

答：①藤原道長 ②ウ

- ① 資料1の和歌は、娘が天皇のきさきになったときに、藤原道長がよんだ歌である。
- ② 道長は、娘を天皇のきさきにして、娘の生んだ子が天皇に即位すると天皇の祖父として、実権をにぎった。したがってウが道長を示し、イは道長の娘がきさきとなった天皇を示している。

問 国風文化の特色の一つとして、日本語の発音をあらわす文字が発達したことがあげられる。この文字は何とよばれるか。その名称を書きなさい。また、この文字を用いて、紫式部は長編小説を書いた。この作品は何とよばれるか。その名称を書きなさい。2014 静岡

答：仮名文字、源氏物語

資料Ⅱ

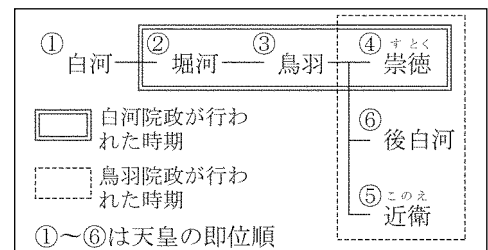


問 浄土信仰は、どのような信仰か。資料Ⅱを参考にして、「極楽浄土」の語句を用いて簡潔に書け。2013 奈良

答：(例) 阿弥陀仏にすぎり、極楽浄土への生まれ変わりを願う信仰。

問 資料Ⅲは、院政が行われていた時期の天皇の系図である。院政によって、これまで政治の実権を握っていた一族の力が抑えられた。この一族は何氏か。その名称を書け。また、院政とはどのような政治か。資料Ⅲを参考にして、簡潔に説明せよ。2015 奈良

資料Ⅲ



答：名称：藤原氏

院政：(例) 天皇の位を譲って、上皇となって政治を行うこと。

平安時代には、藤原氏が摂政・関白となって政治の実権を握っていた。院政は天皇の位を譲って上皇となった後も政治を行うことで、院政が始まると、藤原氏の力は衰えていった。

問 空海が広めた仏教の宗派を、次のア～エの中から1つ選び、その記号を書きなさい。2013 和歌山

ア 浄土真宗      イ 浄土宗      ウ 天台宗      エ 真言宗

答：エ

国風文化が発達した平安時代の貴族の邸宅は、寝殿造の様式でつくられた。寝殿という建物を中心に左右対称に建物が配置され、それぞれが廊下でつながっており、池のある庭がある。

問 平安時代、貴族の邸宅に用いられた様式を何といいますか、書きなさい。2014 和歌山

答：寝殿造

問 「藤原道長」  という職につき、まだ幼い天皇に代わって実質的に政治を行った。また、貴族の生活を記録した日記を残した。2013 岡山

答：摂政

問 写真1の建物は、浄土へのあこがれを背景に建てられたものであり、京都府宇治市にある。1班はこの建物が建てられた時代について、次の手順で発表することにした。、 に当てはまることばの組み合わせとして適当なのは、(1)～(4)のうちではどれですか。一つ答えなさい。2014 岡山

写真1




写真1を、作成した表の  時代の代表的な文化財の欄に貼り、この建物が建てられた時期の文化の特色を「」と説明する。

- (1)  : 奈良,  : 大陸の文化の影響を受けた国際色豊かな文化
- (2)  : 奈良,  : 我が国の自然・風土や生活にあった文化
- (3)  : 平安,  : 大陸の文化の影響を受けた国際色豊かな文化
- (4)  : 平安,  : 我が国の自然・風土や生活にあった文化

答：イ

写真1の平等院鳳凰堂は、平安時代に藤原頼通によって建てられた。このころ日本の自然や風土に合った国風文化が発達した。

問 「遣唐使を派遣していたが、9世紀末にとりやめた」とあるが、我が国が遣唐使の派遣をとりやめた理由について、「唐」の語を使って、簡潔に書け。2015 高知

答：(例) 唐の勢力が衰退したから。

問 次の絵は、「源氏物語絵巻」の一部である。この絵のように、平安時代に、当時の風俗や人物を題材として描かれた絵は、一般に  と呼ばれている。 に当てはまる適当な言葉を書け。2013 愛媛



答：大和絵

問 右の  X  に当てはまる人物はだれか。2014 高知

答：平清盛

<b>B 神戸市</b>
1167年に武士として初めて太政大臣になった
<input type="text"/> X <input type="text"/> が、この地の港を整備した。

問 白河上皇は、1086年に院政を始めました。院政とはどのような政治ですか、「天皇」という語句を用いて、簡潔に書きなさい。2013 和歌山

答：天皇の位を譲って上皇となった後も、政治を行うこと。

問 B班が調べたことがらについて、アテルイが降伏した征夷大將軍の名前を書きなさい。2015 佐賀

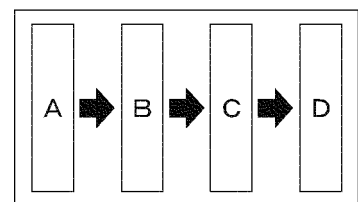
<b>B 班</b>	アテルイ	・東北地方で朝廷軍を破ったが、その後派遣された征夷大將軍に降伏した。
------------	------	------------------------------------

答：坂上田村麻呂

桓武天皇によって征夷大將軍に任命され、東北地方に派遣されたのは、坂上田村麻呂である。

問 図は、平安時代の政治の移りかわりについて、Aから古い順にまとめたものである。図中のA～Dには、ア～エのいずれかがそれぞれ当てはまる。Cに当てはまることがらを1つ選び、符号を書きなさい。2013 大分

図



ア 桓武天皇は、坂上田村麻呂を蝦夷の征討に向かわせた。

イ 平清盛は、武士として初めて政治の実権をにぎった。

ウ 白河天皇は、位をゆずり上皇となった後も政治を行った。

エ 藤原道長は、天皇家との関係を深めて摂関政治を行った。

答：ウ

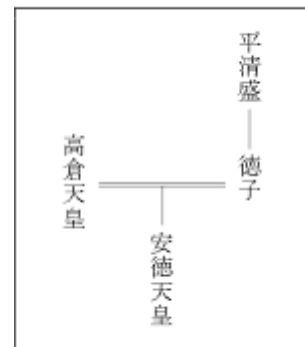
桓武天皇が律令国家の支配を東北地方に広げようとする

→藤原氏による摂関政治が行われる→白河上皇が院政を始める

→平清盛が太政大臣となって実権をにぎる、という順になる。

問 平清盛は、摂関政治の全盛期を築いた藤原道長ふじわらのみちながと同じような手段で権力の強化につとめた。その手段について、系図を参考にして簡潔に書け。2013 長野

系図



〔注〕 ——— は夫婦関係を示す。

答：自分の娘を天皇のきさきにして、生まれた子を天皇にたてた。

問 下線部②について、摂関政治のころ、わが国で栄えていた文化はどのような文化であったか。資料 12 のようにかな文字がつくられ、使用されたことを参考にして、中国という語を用いて説明しなさい。2015 熊本

資料 12

お	え	う	い	あ	才	エ	ウ	イ	ア
於	衣	宇	以	安	於	江	宇	伊	阿
於	衣	宇	以	安	於	江	宇	伊	阿
お	え	う	い	あ	才		ウ		ア
お	え	う	い	あ			ウ		ア

答：中国の文化をふまえながら、それを日本の風土や生活に合わせた文化。

問 源氏と平氏にすることがらとして誤っているものを、次のア～エから一つ選び、記号で答えなさい。

2015 熊本

- ア 源義家みなもとのよしいえは、東北地方の戦乱をはずめ、関東を中心とした東日本に勢力を広げた。
- イ 源頼朝よりともは、国ごとに守護を、荘園や公領ごとに地頭をおき、征夷大將軍せいゐに任命された。
- ウ 平将門まさかどは、周辺の武士を率いて西日本で反乱をおこしたが、鎮圧された。
- エ 平清盛は、平治の乱に勝利して太政大臣たいじょうだいじんとなり、一族も高い地位についた。

答：ウ

ウの平将門は、関東地方で反乱をおこした。西日本では、藤原純友が反乱をおこした。

問 文化面では、国風文化が栄え、紫式部の「源氏物語」や清少納言の「①」などの文学作品が生まれた。2014 鹿児島

答：枕草子