

1 下の年表は、るりさんが日本と外国とのかかわりについてまとめたものである。次の問1～問7に答えなさい。

問1 ㉞のうち、国家の財政を安定させるために実施した改革を何というか、書きなさい。

問2 ㉝の時期に起きた日本のできごととして適切なものを、次の1～4の中から一つ選び、その番号を書きなさい。

- 1 イギリスと日英同盟を結び、ロシアに対抗した。
- 2 西郷隆盛さいごうたかもりらが西南戦争を起こした。
- 3 清と対等な立場で日清修好条規を結んだ。
- 4 鉄鋼の国産化に向けて、八幡製鉄所やはたがつくられた。

| 年 代 | で き ご と |
|--------|--------------------------------------|
| 1873年 | 政府が㉞明治維新の三大改革を実施する中、岩倉使節団が帰国する |
| | ↕ ㉝ |
| 1894年 | イギリスの㉝領事裁判権を撤廃し、日本が関税自主権の一部を回復する |
| 1895年 | ㉞伊藤博文 <small>ひろぶみ</small> らが、下関条約を結ぶ |
| ㉞ 1930 | 政府が、軍備を縮小するための条約を結ぶ |
| 1945年 | ポツダム宣言を受け入れる |
| | ↕ ㉞ |
| 1951年 | ㉞日本が独立を回復する |

問3 ㉝とは、どのような権利のことか。次の3語を用いて説明しなさい。

法律 事件 外国

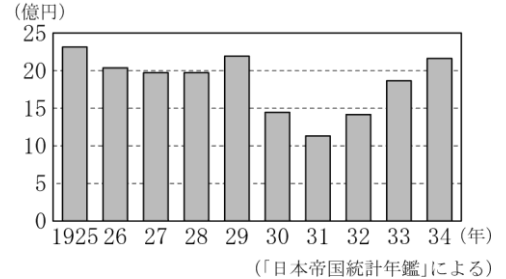
問4 ㉞が、日清戦争後の日本の政治情勢を受けて1900年に結成した政党を、次の1～4の中から一つ選び、その番号を書きなさい。

- 1 立憲政友会 2 自由党 3 立憲改進黨 4 憲政会

問5 ㉞に、日本の輸出額は、右の資料のように減少した。減少した理由として適切なものを、次の1～4の中から一つ選び、その番号を書きなさい。

- 1 世界恐慌に対して行ったニューディール（新規まき直し）という政策により、アメリカは日本からの輸入を禁止したから。

資料 日本の輸出額の変化



- 2 シベリア出兵のため、米の買いしめが日本国内で起こったことにより、日本から各国への米の輸出が減少したから。
- 3 ニューヨーク株式市場の株価暴落をきっかけとした世界恐慌により、日本からアメリカへの生糸きの輸出が減少したから。
- 4 ワシントン会議で海軍の軍備が制限されたことにより、日本は各国への輸出を安全にできなくなったから。

問6 ㉗の時期に起きた日本のできごととして適切でないものを、次の1～4の中から一つ選び、その番号を書きなさい。

- | | |
|------------|------------|
| 1 教育基本法の公布 | 2 労働組合法の公布 |
| 3 農地改革の実施 | 4 国際連合への加盟 |

問7 ㉘_____のときに、日本がアメリカなど48か国と結んだ条約を何というか、書きなさい。

| 問題番号 | 解 答 | 配点 | 備 考 |
|-------------------------|-----|----|-----|
| 社-14-公-青森-問-04 1 | 問1 | | |
| | 問2 | | |
| | 問3 | | |
| | 問4 | | |
| | 問5 | | |
| | 問6 | | |
| | 問7 | | |

社-14-公-青森-問-04

2 下の年表や資料を見て、次の問1～問5に答えなさい。

| 年 | できごと |
|-------|-------------------------|
| 1868年 | ㉗新しい政治の方針が出され、年号が明治に改まる |
| 1904年 | ㉘日露戦争が始まる |
| 1905年 | ㉙ポーツマス条約が結ばれる |
| 1912年 | 年号が㉚大正に改まる |
| 1914年 | ㉛第一次世界大戦が始まる |
| 1919年 | 日本がパリで開かれた講和会議に参加する |

資料

一 廣ク會議ヲ興シ万機公
論ニ決スベシ
一 上 下 心 ヲ一ニシテ 盛
ニ 經 綸 ヲ 行 ウ ベ シ
一 官 武 一 途 庶 民 ニ 至 ル
迄、おのおのそのころざし
各 其 志 ヲ 遂 ゲ、
人 心 ヲ シ テ 倦 マ ザ ラ シ メ
ン コ ト ヲ 要 ス

問1 上の資料は、㉗_____の一部である。この方針を何というか、書きなさい。

問2 ㉘_____に出兵した弟を思い、1904年に『君死にたまふことなかれ』という詩を発表したのはだれか。その人物名を書きなさい。




問3 ㉙_____で、日本がロシアから賠償金を得られなかったことなどに対し、不満を持った民衆が起こした事件を何というか。適切なものを次の1～4の中から一つ選び、その番号を書きなさい。

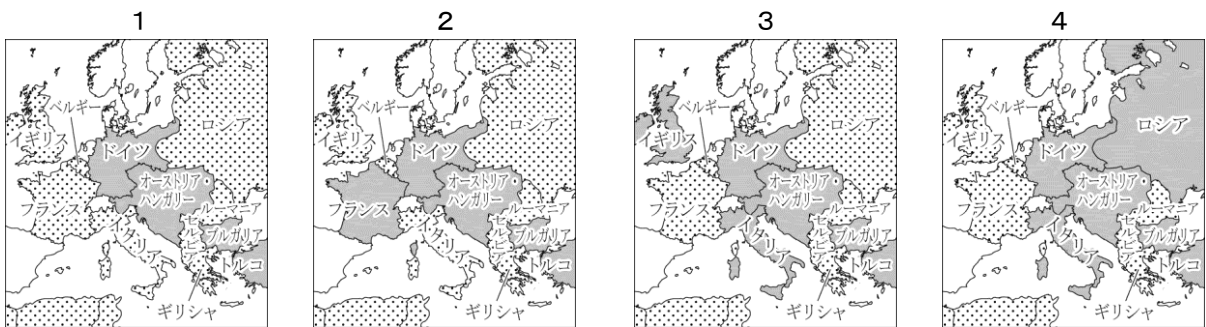
- | | | | |
|--------|-------------|--------|----------|
| 1 秩父事件 | 2 日比谷焼き打ち事件 | 3 大逆事件 | 4 二・二六事件 |
|--------|-------------|--------|----------|

問4 ㉔ _____ について、大正時代のできごととして適切でないものを、次の1～4の中から一つ選び、その番号を書きなさい。

- 1 日本が国際連盟の常任理事国となった。
- 2 小作争議がひんぱんに起こり、日本農民組合が結成された。
- 3 義務教育の年限が、4年から6年となった。
- 4 ラジオ放送が始まり、新聞とならぶ情報源となった。

問5 ㉕ _____ について、次のア、イに答えなさい。

ア ヨーロッパの連合国側と同盟国側の国々（1916年頃）を表した略地図として最も適切なものを、次の1～4の中から一つ選び、その番号を書きなさい。ただし、は連合国側、は同盟国側の国々を、また、は中立国をそれぞれ表している。



イ 下の文章中の に共通してあてはまる適切な内容を、次の1～4の中から一つ選び、その番号を書きなさい。

ヨーロッパでは、第一次世界大戦前から女性の を求める動きが見られた。大戦中には、男性が戦争に動員されたため労働力が不足し、女性がさかんに職場へ進出するようになった。これらを背景に、イギリスでは1918年に女性の が実現した。

- 1 団結権 2 プライバシーの権利 3 生命・身体の自由 4 参政権

| 問題番号 | | 解 答 | | 配点 | 備 考 |
|------|----|-----|--|----|-----|
| 社一青森 | 2 | 問1 | | | |
| | | 問2 | | | |
| | | 問3 | | | |
| | | 問4 | | | |
| | 問5 | ア | | | |
| | | イ | | | |

3 下のA, Bは, ある生徒が日本の産業革命に関係したことを調べてまとめたカードである。次の問1～問3に答えなさい。

A 政府は, 新しい国づくりのためにさまざまな政策をとった。その一つとして, 輸出を支える生糸の増産や品質の向上を図るため, 群馬県の㊸富岡製糸場などをつくった。その後, 紡績, 製糸などの軽工業が発展し, 日本は産業革命の時代をむかえた。

B 重化学工業製品は, ほとんど欧米から輸入されていた。しかし, やがて国産化も始まり, ㊹八幡製鉄所が産業の基礎となる鉄鋼の生産を開始した。工業が発展する一方で, 鉱山などでは㊺公害の問題が発生した。

問1 Aについて, 次のア～ウに答えなさい。


ア 工場の建設, 蒸気船の運航, 郵便制度や電信網の整備など, 産業を育てようとした政策を何というか, 漢字4字で書きなさい。

イ ㊸____のように, 国が民間に手本を示す目的でつくられた工場を何というか, 書きなさい。

ウ 右の資料中のaの時期のできごととして適切でないものを, 次の1～4の中から一つ選び, その番号を書きなさい。

- | | |
|--------|-------------|
| 1 日中戦争 | 2 第1回帝国議会 |
| 3 米騒動 | 4 大日本帝国憲法発布 |

資料

| 年 | 日本のおもなできごと |
|-------|--|
| 1872年 | 富岡製糸場が設立される |
| |  a |
| 1927年 | 金融恐慌が始まる |

問2 **B**について、次のア～ウに答えなさい。

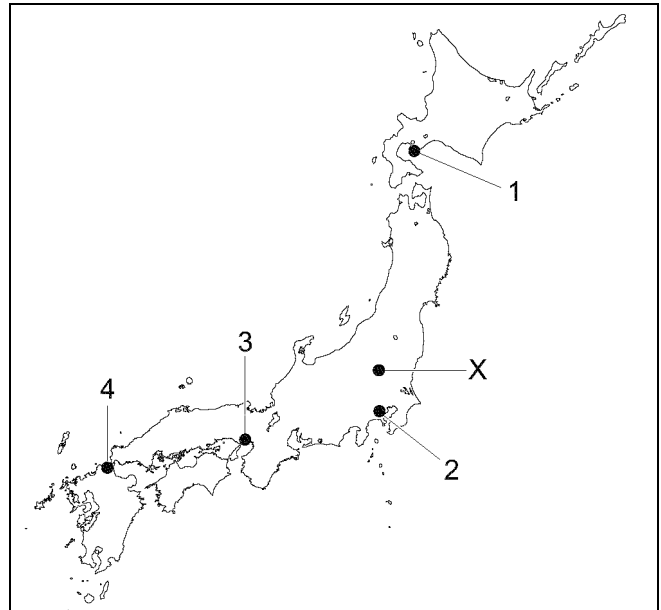
ア ㉑ _____ について述べた文として適切なものを、次の1～4の中から一つ選び、その番号を書きなさい。

- 1 第一次世界大戦で得た賠償金をもとに建設された。
- 2 筑豊炭田や中国からの石炭と鉄鉱石を利用して鉄鋼を生産した。
- 3 製鉄所は、東海道線が全線開通した年に操業を開始した。
- 4 炭鉱開発や都市建設などを進め、満州での経済的な利権を独占した。

イ ㉒ _____ が建てられた場所を、略地図中の1～4の中から一つ選び、その番号を書きなさい。

ウ ㉓ _____ について、略地図中のXの鉱山から流出する鉱毒の被害は、大きな社会問題となった。この鉱山を何というか、書きなさい。

略地図



問3 **A**, **B**の両方のカードに書かれている頃の日本の時代区分として最も適切なものを、次の1～4の中から一つ選び、その番号を書きなさい。

- 1 現代 2 中世 3 近代 4 近世

| 問題番号 | | 解 答 | | 配点 | 備 考 | |
|----------------|----|-----|--|----|-----|--|
| 社15-公-青森-KY-04 | 問1 | ア | | | | |
| | | イ | | | | |
| | | ウ | | | | |
| | 問2 | ア | | | | |
| | | イ | | | | |
| | | ウ | | | | |
| | 問3 | | | | | |

4 次の文を読んで、下の問1～問4の問いに答えなさい。

わが国は、イギリスと深いかかわりを持ってきた。明治時代には①日英同盟を締結し、大正時代にヨーロッパではじまった②戦争では、イギリス側について参戦した。しかし、昭和時代に起きた③満州事変のあとには、イギリスなどのヨーロッパの大国を中心に運営されていた国際連盟によって、占領地からの撤兵を求められた。その後、太平洋戦争では、イギリスを含む連合国と戦った。

経済の面では、江戸時代の末に諸外国と④修好通商条約を結んだあとに、最大の貿易相手国となったのがイギリスであり、わが国の諸産業が受けた影響は大きかった。

問1 下線部①について、右の絵は、日英同盟が締結されたころの国際関係を表した風刺画の一部です。このころ、わが国は、勢力範囲の拡大を図るAで示した国と対立し、戦争に至りました。その国はどこですか。次のア～エのうちから一つ選び、その記号を書きなさい。

- ア ロシア イ ドイツ
ウ フランス エ イタリア



問2 下線部②について、この戦争を何といいますか。ことばで書きなさい。

問3 下線部③について、次のア～エのうち、満州事変が起こったころのイギリスの動きについて述べているものはどれですか。一つ選び、その記号を書きなさい。

- ア インド産の麻薬であるアヘンの密輸を厳しく取り締まった清に対して出兵し、屈服させた上で、不平等な内容の条約をおしつけた。
- イ 「冷たい戦争(冷戦)」とよばれる緊張状態の中で、アメリカを中心とする西側陣営に属し、ソ連を中心とする東側陣営と対立した。
- ウ 北アメリカにわたって13の植民地をつくっていた人々に対して新たな税を課したり、弾圧を加えたことで、独立をめぐる戦争を招いた。
- エ 世界恐慌の混乱に対して植民地との関係を密接にし、貿易を拡大するいっぽう、植民地以外の商品をしめ出すブロック経済をおこなった。

問4 下線部④について、次の文は、この条約により、わが国の産業が受けた影響について述べたものです。このような影響をもたらした条約の内容を簡単に書きなさい。

イギリスから安い価格の綿製品が大量に輸入されたことで、大阪をはじめとするわが国の綿製品の生産地は、大きな打撃を受けた。

| 問題番号 | | 解 答 | 配点 | 備 考 |
|----------------|-------|-----|----|-----|
| 社-15-公-岩手-問-06 | 問 1 | | | |
| | 問 2 | | | |
| | 4 問 3 | | | |
| | 問 4 | | | |

社-15-公-岩手-問-06

5 次の文を読んで、下の問 1～問 5 の問いに答えなさい。

岩手の近代産業は、わが国の近代産業の成長とともに発展してきた。わが国が 1870 年代に進めた①殖産興業により、釜石に釜石製鉄所が設立された。まもなく技術上の問題もあり生産を中止したが、日清戦争前に生産を再開した。産業革命の進展とともに、全国的に②労働者が増加し、釜石製鉄所も生産が本格化した。第一次世界大戦が始まると、現在の八幡平市に開かれた松尾鉱山が生産を開始し、③大戦景気により生産が増え、世界恐慌のころにはわが国を代表する硫黄鉱山となった。日中戦争が始まり、④戦時体制が強まるなかで釜石製鉄所と松尾鉱山の生産は増加した。太平洋戦争で釜石製鉄所は大きな被害を受けたが、⑤戦後の復興とともに生産を増加させた。

問 1 下線部①について、次のア～エのうち、殖産興業における具体的な政策について述べているものとして、最も適当なものはどれですか。一つ選び、その記号を書きなさい。

- ア 金座や銀座で金貨や銀貨をつくり流通をすすめた。
- イ 地主が持つ小作地の強制的な買い上げをすすめた。
- ウ 所得倍増をスローガンにかかげ経済成長をすすめた。
- エ 官営模範工場の建設や交通、通信の整備をすすめた。

問 2 下線部②について、産業の発展にもなって労働者が増加しました。次のア～エのうち、明治時代後半の労働者をめぐる状況を述べているものとして、最も適当なものはどれですか。一つ選び、その記号を書きなさい。

- ア 労働組合が結成され労働争議が活発になる中で、政府は工場法を制定した。
- イ 民主化が進められる中で、労働者の団結を認める労働組合法が制定された。
- ウ デモクラシーの風潮の中で労働争議が頻発し、日本最初のメーデーが行われた。
- エ 労働力不足が深刻になり、中学生や女学生などが勤労働員により工場で働いた。

問3 下線部③について、次の文は、大戦景気について説明したものです。下のア～エのうち、文中の と にあてはまることばの組み合わせとして正しいものはどれですか。一つ選び、その記号を書きなさい。

第一次世界大戦が始まり日本は好景気となった。中国を中心としたアジアへの の輸出が大きく増加した。さらに、欧米からの輸入が途絶えたことにより国内の が発展し、国内の産業にしめる割合が大きくなった。

| | ア | イ | ウ | エ |
|---|-------|-----|-------|-----|
| X | 綿織物 | 綿織物 | 鉄鉱石 | 鉄鉱石 |
| Y | 重化学工業 | 農業 | 重化学工業 | 農業 |

問4 下線部④について、戦時体制が強まるなか、1938年に国家総動員法が制定されました。次のア～エのうち、この法律によりもたらされた状況を述べているものとして、最も適当なものはどれですか。一つ選び、その記号を書きなさい。

- ア 軍事上、経済上の必要から、民間の主な鉄道が国有化された。
- イ 経済を支配してきた財閥を解体し、その下にある企業を独立させた。
- ウ 議会の議決を経ずに、戦争に必要な物資や国民を集めることができるようになった。
- エ 地券を発行して土地所有者を定め、地価を基準に課税することで国家財政を安定させた。

問5 下線部⑤について、戦後の復興が進み、釜石製鉄所は生産を再開しました。次の資料Ⅰは、1949年から1953年までの釜石製鉄所と全国の粗鋼*生産量の推移を示したものです。また、資料Ⅱは、資料Ⅰで示された期間内に始まった戦争について説明した文です。資料Ⅰに見られるような生産量の変化が起きたのはなぜですか。その理由を、資料Ⅱの戦争の名称と、この時期にわが国の生産物の主要な取引相手となった国名をそれぞれを明らかにして、簡単に書きなさい。

資料Ⅰ

(単位：千トン)

| 年 | 釜石製鉄所 | 全国 |
|------|-------|-------|
| 1949 | 179 | 3,111 |
| 1950 | 276 | 4,839 |
| 1951 | 360 | 6,502 |
| 1952 | 373 | 6,988 |
| 1953 | 395 | 7,662 |

(数字でみる日本の100年改訂第6版などから作成)

*粗鋼とは製鉄炉から得られたままの鉄鋼のこと。

資料Ⅱ

第二次世界大戦後、冷戦の影響で始まった戦争である。日本に駐留していた国を中心とする国連軍が介入し、1953年に、北緯38度線付近を軍事境界線として休戦協定が締結された。

| 問題番号 | | 解 答 | 配点 | 備 考 |
|----------------|-----|-----|----|-----|
| 社-15-公-山形-問-04 | 5 | 問 1 | | |
| | 問 2 | | | |
| | 問 3 | | | |
| | 問 4 | | | |
| | 問 5 | | | |

社-15-公-山形-問-04

- 6 次の表は、近現代のわが国の動きと世界のおもなできごとを、いくつかの時期に区切りまとめたものです。あとの問いに答えなさい。

表


| | 時期 | わが国の動き | 年 | 世界のおもなできごと |
|---|------|---|----------------------|---|
| A | 明治 | 新政府により①諸改革が行われ、近代化が急速に進んだ。②自由民権運動がおこり、1889年、大日本帝国憲法が發布され、翌年には第一回帝国議会が開かれた。 | 1894 1900 1911 | <input type="checkbox"/> X がおこる 義和団事件がおこる 辛亥革命がおこる |
| B | 大正 | 政府に対して護憲運動がおこるなど、国民の政治意識が高まった。③米騒動のあと、最初の本格的な政党内閣が成立し、1925年には④普通選挙制が実現した。 | 1914 1917 1920 | 第一次世界大戦がおこる ロシア革命がおこる…… a 国際連盟が設立される |
| C | 昭和前期 | 世界恐慌による不景気の中、軍部が台頭し、⑤政党政治はとだえた。日本は大陸に進出し、日中戦争が始まった。戦争は太平洋戦争へと拡大し、1945年まで続いた。 | 1929 1939 1945 | 世界恐慌がおこる 第二次世界大戦がおこる <input type="checkbox"/> Y が開かれる |
| D | 昭和後期 | 戦後、連合軍の占領下で民主化政策が進められた。1951年、⑥日本は独立を回復し、国際社会にも復帰した。経済は順調に回復し、経済大国とよばれるようになった。 | 1949 1950 1965 | 中華人民共和国が成立する 朝鮮戦争がおこる ベトナム戦争がおこる |

問 1 Aについて、次の問いに答えなさい。

- (1) 下線部①に関連して、政府が行った地租改正の目的を、財政の面から書きなさい。
- (2) 下線部②に関連して、資料 I は、ある人物についてまとめたものです。この人物の名前を書きなさい。

資料 I

土佐藩出身。征韓論を主張し、政府を去る。1874年、民撰議院設立建白書を政府に提出。1881年、自由党を結成し、党首となる。



問2 Bについて、次の問いに答えなさい。

- (1) 下線部③がおきた原因の一つは、米価が急激に上昇したことです。当時、米価が急激に上昇した背景を、表中の a と関連させて書きなさい。
- (2) 下線部④によって、選挙権が与えられたのはどのような人たちか、書きなさい。

問3 Cについて、次の問いに答えなさい。

- (1) 下線部⑤について、1932年に海軍の将校らがおこした事件を何というか、書きなさい。
- (2) この時期のできごととして適切なものを、次のア～エから一つ選び、記号で答えなさい。

| | |
|-------------------|----------------------|
| ア 警察予備隊がつけられた。 | イ 官営八幡製鉄所が鉄鋼の生産を始めた。 |
| ウ 新橋・横浜間に鉄道が開通した。 | エ 勤労働員や学徒出陣が行われた。 |

問4 Dの下線部⑥について、資料Ⅱは、日本が独立を回復した条約の調印の様子です。調印された都市名から、この条約を何というか、書きなさい。

資料Ⅱ



問5 表中の X , Y にあてはまる言葉の組み合わせとして適切なものを、次のア～エから一つ選び、記号で答えなさい。

- | | | | |
|------------|---------|------------|--------------|
| ア X 五・四運動 | Y ヤルタ会談 | イ X 甲午農民戦争 | Y アジア・アフリカ会議 |
| ウ X 甲午農民戦争 | Y ヤルタ会談 | エ X 五・四運動 | Y アジア・アフリカ会議 |

| 問題番号 | 問 | 解 | 答 | 配点 | 備考 | |
|--------------|----|-----|---|----|----|--|
| 社15-公-山形-204 | 問1 | (1) | | | | |
| | | (2) | | | | |
| | 問2 | (1) | | | | |
| | | (2) | | | | |
| | 問3 | (1) | | | | |
| | | (2) | | | | |
| | 問4 | | | | | |
| | 問5 | | | | | |

7 略年表を見て、次の問1から問5までの問いに答えなさい。

問1 Aについて、次の文中の **I** , **II** に当てはまる語の組み合わせとして正しいのはどれか。

明治政府は財源の安定をめざして地租改正を行った。政府は全国の土地を調査して課税の基準を **I** とし、納めるものを **II** に変更した。

| 年代 | できごと |
|------|---------------------|
| 1873 | 地租改正が始まる……………A |
| 1889 | 大日本帝国憲法が発布される……………B |
| 1945 | 第二次世界大戦が終わる…………… |
| 1972 | 中国との国交が正常化する……………C |
| 1973 | D が起こる |

- ア I－地価 II－米 イ I－収穫高 II－現金（貨幣）
- ウ I－地価 II－現金（貨幣） エ I－収穫高 II－米

問2 Bについて、憲法草案作成の中心となり、初代の内閣総理大臣を務めた人物は誰か。

問3 次のア、イ、ウ、エは、②の時期におきたできごとである。年代の古い順に並べなさい。

- ア 日英同盟が結ばれる。
- イ 国際連盟が設立される。
- ウ 下関条約が結ばれる。
- エ 世界恐慌が起こる。

問4 図は、Cの年に沖縄の人々が、銀行でドルを円に換えようとしている写真である。なぜ、換金することになったのか、第二次世界大戦の終結からこの年までの沖縄がおかれていた状況をふまえて簡潔に書きなさい。



問5 次の文は **D** についての説明である。**D** に当てはまる語を書きなさい。

中東でおきた戦争の影響を受けて、原油の値上げや輸出制限が行われた結果、世界経済は大きな打撃を受け、日本の高度経済成長が終わった。

| 問題番号 | 解 | 答 | 配点 | 備考 | |
|----------------------------|----|---|----|----|--|
| 社-13-公-栃木-問-06 7 | 問1 | | | | |
| | 問2 | | | | |
| | 問3 | → | → | → | |
| | 問4 | | | | |
| | 問5 | | | | |

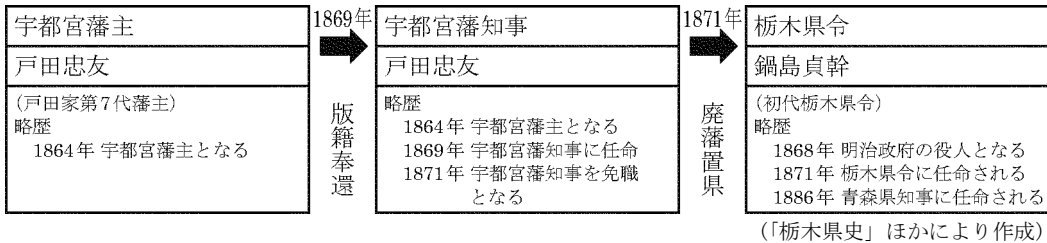
8 略年表を見て、次の問1から問5までの問いに答えなさい。

- 問1 Aの条約の内容として正しいのはどれか。
- ア 日本が関税自主権を回復した。
 - イ 日本が台湾を領有することになった。
 - ウ 日本は、アメリカに対し下田・函館の2港を開き、開国した。
 - エ 日本は、アメリカに治外法権（領事裁判権）を認めた。

| 年代 | できごと |
|------|--------------------|
| 1858 | 日米修好通商条約が結ばれる……A |
| 1871 | 岩倉使節団が派遣される……B |
| 1902 | 日英同盟が結ばれる…… |
| 1945 | ポツダム宣言を受け入れる……C |
| 1956 | D との国交を回復する |

問2 Bの年に、政府は廃藩置県を行った。図を参考にして、版籍奉還後と廃藩置県後の地方統治の違いを「政府」の語を用いて簡潔に書きなさい。

図



- 問3 次のア、イ、ウ、エは②の時期におきたできごとである。年代の古い順に並べなさい。
- ア 内閣制度がつくられる。
 - イ 民撰議院（国会）設立の建白書（意見書）が提出される。
 - ウ 立憲改進黨が結成される。
 - エ 初めての衆議院議員選挙が行われる。

問4 次の文中の に当てはまる語を書きなさい。

Cにより日本は降伏し、連合軍総司令部（GHQ）の指令のもと、諸改革を行った。戦前多くの企業を経営し、日本経済を支配してきた の解体が命じられ、経済の民主化が進められた。

問5 **D** との国交を回復した日本は、国際連合に加盟し、国際社会に復帰した。**D** に当てはまる国はどれか。

- ア 中国
- イ 韓国
- ウ ソ連
- エ アメリカ

| 問題番号 | 解答 | 配点 | 備考 | |
|-------------------|----|-------|----|--|
| 社-14-公-栃木-06 8 | 問1 | | | |
| | 問2 | | | |
| | 問3 | → → → | | |
| | 問4 | | | |
| | 問5 | | | |

9 京子さんは、歴史学習のまとめとして、調べたことを発表した。次の資料Ⅰ～資料Ⅴは、そのときに使用したもの的一部分である。後の問1～問4の問いに答えなさい。

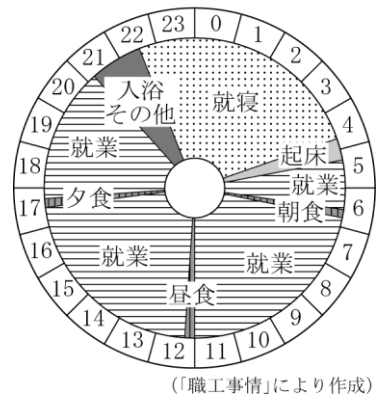
資料Ⅰ 政府に提出された意見書

現在政権がどこにあるかを考えてみると、天皇にあるのではなく、人民にあるのでもない。ただ政府の役人が独占するところとなっている。(中略)これを救う方法は、ただ天下の人民の言論の道を開くほかはない。そのためには、民撰議院を立てるのがよい。(部分要約)

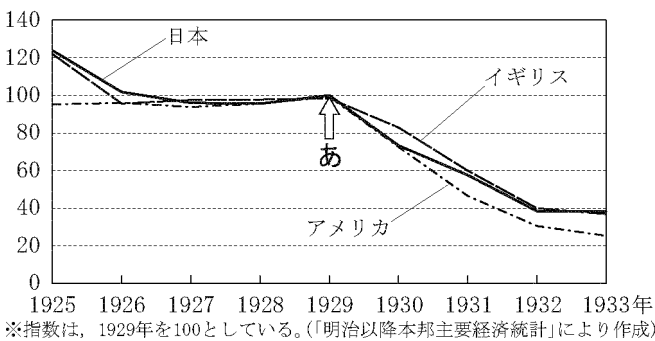
資料Ⅱ 労働に関する法律

第3条
工場主は、15歳未満の者および女子を、1日につき12時間を超えて労働させてはならない。(部分要約)


資料Ⅲ 女工の1日の生活



資料Ⅳ 主な国の貿易額の変化(指数)



資料Ⅴ ベルリンの街並みの変化



※(A)は1989年、(B)は2009年に同じ場所から撮影されたものである。

問1 資料Ⅰについて、次の①、②の問いに答えなさい。

① 下線部に当たる人物を、次のア～エから選びなさい。

- ア 徳川慶喜 イ 坂本龍馬
ウ 福沢諭吉 エ 大久保利通

② この意見書が政府に提出されたことをきっかけに起こった運動を何というか、書きなさい。

問2 資料Ⅱは、20世紀初めに制定された法律であり、資料Ⅲは、当時の女工の1日の生活を示したものである。資料Ⅱの法律が制定された理由として考えられることを、資料Ⅲに着目して、簡潔に書きなさい。

問3 次の文は、京子さんが資料Ⅳについて説明したものである。文中の **ア** に当てはまる語を書きなさい。また、**イ** に当てはまることばを、「国内の産業」という語を用いて、簡潔に書きなさい。

「あ」の年を境にして、各国の貿易額が大きく変化しました。これは、アメリカで株価が大暴落し、**ア** が起こったことがきっかけです。そして、各国政府は、**イ** を目的として、外国の商品に対して高い関税をかける経済政策を行いました。

問4 資料Ⅴについて、ベルリンの街並みが**㉠**から**㉢**のように変化した。その理由を、簡潔に書きなさい。

| 問題番号 | | 解 答 | | 配点 | 備 考 |
|----------|----------|-----|---|----|-----|
| 社団法人群馬大学 | 9 | 問1 | ① | | |
| | | | ② | | |
| | | 問2 | | | |
| | | 問3 | ア | | |
| | | | イ | | |
| 問4 | | | | | |

| 問題番号 | | 解 答 | | 配点 | 備 考 |
|-----------|---|-----|--|----|-----------------|
| 社13公青森大04 | 1 | 問1 | 地租改正 | 2 | |
| | | 問2 | 2 | 2 | |
| | | 問3 | (例) 外国で起こした事件でも、領事が自分の国の法律によって裁判を行うことのできる権利。 | 3 | 内容が適切であれば正解とする。 |
| | | 問4 | 1 | 2 | |
| | | 問5 | 3 | 2 | |
| | | 問6 | 4 | 2 | |
| | | 問7 | サンフランシスコ平和条約 | 2 | ※4参照 |

※4 サンフランシスコ講和条約でも正解とする。

| 問題番号 | | 解 答 | | 配点 | 備 考 |
|-----------|---|-----|---------|----|-----|
| 社14公青森大04 | 2 | 問1 | 五箇条の御誓文 | 2 | |
| | | 問2 | 与謝野晶子 | 2 | |
| | | 問3 | 2 | 2 | |
| | | 問4 | 3 | 2 | |
| | | 問5 | ア | 1 | 3 |
| イ | 4 | | 2 | | |

| 問題番号 | | 解 答 | | 配点 | 備 考 | |
|-----------|----|-----|------|--------|-----|------|
| 社15公青森大04 | 3 | 問1 | ア | 殖産興業 | 2 | |
| | | | イ | 官営模範工場 | 2 | ※5参照 |
| | | | ウ | 1 | 2 | |
| | 問2 | ア | 2 | 2 | | |
| | | イ | 4 | 2 | | |
| | | ウ | 足尾銅山 | 2 | | |
| | 問3 | | 3 | 2 | | |

※5 官営工場、模範工場も正解とする。

| 問題番号 | | 解 答 | | 配点 | 備 考 |
|------------|---|-----|-----------------|----|-----|
| 社13公山指千大06 | 4 | 問1 | ア | 3 | |
| | | 問2 | 第一次世界大戦 | 3 | |
| | | 問3 | エ | 4 | |
| | | 問4 | (例) 関税自主権がないこと。 | 4 | |

| 問題番号 | | 解 | 答 | 配点 | 備考 | |
|---------|---|----|-----|-----------------------------|----|--|
| 社一五公岩手大 | 5 | 問1 | | エ | 3 | |
| | | 問2 | | ア | 3 | |
| | | 問3 | | ア | 3 | |
| | | 問4 | | ウ | 3 | |
| | | 問5 | (例) | 朝鮮戦争が始まり、アメリカから物資の注文が増えたため。 | 4 | |

| 問題番号 | | 解 | 答 | 配点 | 備考 | |
|---------|---|----|--------------|---|----|-------|
| 社一五公山形大 | 6 | 問1 | (1) | (例) 歳入を安定させること。 | 19 | ※2 参照 |
| | | | (2) | 板垣退助 | | |
| | | 問2 | (1) | (例) ロシア革命に対するシベリア出兵を見こして、米の買い占めなどが行われたこと。 | | |
| | | | (2) | 25歳以上の男子 | | |
| | | 問3 | (1) | 五・一五事件 | | |
| | | | (2) | エ | | |
| | | 問4 | サンフランシスコ平和条約 | | | ※3 参照 |
| 問5 | ウ | | | | | |

※2 「安定した収入を確保すること。」でもよい。

※3 「サンフランシスコ講和条約」でもよい。

| 問題番号 | | 解 | 答 | 配点 | 備考 | |
|---------|---|----|-----|---|----|--|
| 社一五公栃木大 | 7 | 問1 | | ウ | 2 | |
| | | 問2 | | 伊藤博文 | 2 | |
| | | 問3 | | ウ → ア → イ → エ | 2 | |
| | | 問4 | (例) | 沖縄は第二次世界大戦後、アメリカの施政下にあったが、この年に日本に返還されることになったため。 | 4 | |
| | | 問5 | | 石油危機（石油ショック） | 2 | |

〔注意〕

- この配点は、標準的な配点を示したものである。
- 定められた答えの欄に答えが書かれていないときは、点を与えない。
- 指示された答えと違う表現で答えの欄に記入されていても、正答と認められるものには点を与える。
- 定められた数より多く答えたときは、点を与えない。
- 採点上の細部については、各学校の判断によるものとする。

| 問題番号 | | 解 答 | 配点 | 備 考 | |
|---------------------------------|---|-----|---|-----|--|
| 社 一 公 栃 木 大 学 | 8 | 問 1 | エ | 2 | |
| | | 問 2 | (例) 版籍奉還後は、旧藩主が引き続き藩の政治を行ったが、廃藩置県後は、 <u>政府</u> から県令（府知事）が派遣され、県（府）の政治を行うことになった。 | 4 | |
| | | 問 3 | イ → ウ → ア → エ | 2 | |
| | | 問 4 | 財閥 | 2 | |
| | | 問 5 | ウ | 2 | |

〔注意〕

- 1 この配点は、標準的な配点を示したものである。
- 2 定められた答えの欄に答えが書かれていないときは、点を与えない。
- 3 指示された答えと違う表現で答えの欄に記入されていても、正答と認められるものには点を与える。
- 4 定められた数より多く答えたときは、点を与えない。
- 5 採点上の細部については、各学校の判断によるものとする。

| 問題番号 | | 解 答 | 配点 | 備 考 | | |
|---------------------------------|---|-----|-------------------------------|------------------------|----|--|
| 社 一 公 群 馬 大 学 | 9 | 問 1 | ① | エ | 14 | |
| | | | ② | 自由民権運動 | | |
| | | 問 2 | (例) 当時の女工は、長時間働かされていたこと。 | | | |
| | | 問 3 | ア | 世界恐慌 | | |
| | | | イ | (例) <u>国内の産業</u> を保護する | | |
| | | 問 4 | (例) ベルリンの壁が崩壊し、東西ドイツが統一されたから。 | | | |

社-13-公-青森-KS-04

- 1** 問1 明治維新の三大改革とは、税制、兵制、学制についての改革である。国家の財政を安定させるための改革は、地価をもとにした新しい税制を取り入れた地租改正である。
- 問2 1の日英同盟の締結は1902年、2の西南戦争が起こったのは1877年、3の日清修好条規が結ばれたのは1871年、4の八幡製鉄所が操業を開始したのは1901年。
- 問3 領事裁判権は、外国人が事件をおこした場合について、その国の領事はその本国の法律にもとづいて裁判を行うことができる権利である。
- 問4 伊藤博文が1900年に結成した政党は、立憲政友会。自由党は板垣退助が、立憲改進黨は大隈重信が結成した。憲政会は大正時代に加藤高明を総裁として結成された。
- 問5 1929年に世界恐慌がおこり、日本の輸出の中心である生糸の主な輸出先であったアメリカが不景気になったため、輸出が大きく減少した。
- 問6 日本が独立を回復した後の1956年に、日本とソ連との国交が回復してソ連の支持を得たことで、日本の国際連合への加盟が実現した。1～3は、戦後の民主化政策として実施されたこと。
- 問7 1951年にサンフランシスコで講和会議がひらかれ、日本と48か国との間でサンフランシスコ平和条約が結ばれ、日本は独立を回復した。

社-14-公-青森-KS-04

- 2** 問1 1868年、明治天皇は神に誓う形で、新しい政治の基本方針を示した五箇条の御誓文を出した。
- 問2 戦地の弟を思い、『君死にたまふことなかれ』という詩を発表したのは、与謝野晶子である。
- 問3 日露戦争では多くの死傷者を出し、国民も戦費を調達するための増税に苦しんだのにもかかわらず、ポーツマス条約では賠償金が得られなかった。これに対して不満を持った民衆が、東京の日比谷で暴動を起こした。
- 問4 義務教育の年限が4年から6年に延長されたのは1907年で、明治時代のことである。日本が国際連盟に加盟し常任理事国になったのは1920年、日本農民組合が結成されたのは1922年、ラジオ放送が始まったのは1925年。
- 問5 **A** 連合国側は、イギリスやロシア、フランスなど、同盟国側はドイツ、オーストリア、オスマン（トルコ）など。イタリアはドイツ、オーストリアと三国同盟を結んでいたが、同盟から離脱して連合国側について参戦した。
- I** イギリスでは、1918年に30歳以上の女性に選挙権が与えられた。

社-15-公-青森-KS-04

- 3** 問1 **A** 殖産興業とは明治初期に政府が掲げた政策で、産業をおこし、産業の発展を支えるという意味。
- I** 官営模範工場とは、殖産興業のために、政府が直接経営した工場のこと、民間に手本を示して製糸や紡績などの進んだ技術の普及をはかった。
- ウ** 1の日中戦争は、1937年の盧溝橋事件で始まった。2は1890年、3は1918年、4は1889年。
- 問2 **A** 1 八幡製鉄所は日清戦争で得た賠償金をもとに建設された。3 東海道線の全線開通は1889年、八幡製鉄所の操業開始は1901年。4 満州での利権を独占したのは南満州鉄道株式会社。
- I** 八幡製鉄所は、現在の福岡県北九州市に建てられた。
- ウ** **X**にあった足尾銅山から渡良瀬川に鉱毒が流れこみ、流域の農業や漁業に大きな被害をあたえた。栃木県出身の衆議院議員田中正造がこの鉱毒問題の解決のために尽くした。
- 問3 **A**と**B**は明治～大正時代の出来事。1の現代は太平洋戦争の終結後の1945年よりあと、2の中世は鎌倉～室町時代、3の近代は明治～太平洋戦争まで、4の近世は安土桃山～江戸時代を指す。

社-13-公-岩手-KS-06

- 4** 問1 日本とイギリスは、ロシアの勢力拡大に対抗するため、1902年に日英同盟を結んだ。日本はロシアとの対立を深め、1904年に日露戦争が始まった。
- 問2 大正時代の1914年に第一次世界大戦が始まり、日本は日英同盟を理由にこれに参戦した。
- 問3 満州事変が起こったのは1931年。世界恐慌が起こったのは1929年である。アのアヘン戦争は1840年に起こった。イの冷たい戦争（冷戦）は、第二次世界大戦後。ウのアメリカ独立戦争が起こったのは1775年。
- 問4 江戸時代末に日本が欧米諸国と結んだ修好通商条約では、領事裁判権（治外法権）を認め、関税自主権がないという日本にとって不利な内容がふくまれていた。イギリスから安い綿製品が大量に輸入されたことと関係が深いのは、関税自主権についての規定である。

社-15-公-岩手-KS-06

- 5** 問1 殖産興業は、明治維新のころ政府によって進められた近代工業を発展させる政策で、富岡製糸場などの官営模範工場がつくられた。アは江戸時代、イは第二次世界大戦後の農地改革、ウは1960年ごろの政策。
- 問2 明治時代に、労働組合がつくられ労働争議が活発になると、政府は労働者を保護するための工場法を定めた。イは第二次世界大戦後、ウは大正時代、エは第二次世界大戦中のようす。
- 問3 第一次世界大戦で戦場とはならなかった日本では、好況となった。輸出では、アジアへの綿織物が増加した。また、欧米からの輸入がとだえたため、造船や鉄鋼など国内の重化学工業が発達した。
- 問4 国家総動員法の制定によって、議会の議決を経ずに産業や国民の生活すべてを戦争に動員することが可能になった。アの民間の主な鉄道の国有化は明治時代、イの財閥解体は第二次世界大戦後、エの地租改正は明治維新のころ実施された。
- 問5 資料Ⅱは、1950年に始まった朝鮮戦争について述べている。資料Ⅰで、釜石製鉄所も全国も、朝鮮戦争開始後に粗鋼生産量が大きく増加している。朝鮮戦争が起こると、アメリカは戦争に必要な物資を日本で購入した。

社-15-公-山形-KS-04

- 6** 問1 (1) 地租改正で課税の基準を収穫量から地価にしたことで、政府の収入を安定させようとした。
- (2) 板垣退助らが民撰議院建白書を政府に提出したことがきっかけとなり、自由民権運動が始まった。
- 問2 (1) ロシア革命の影響を恐れた日本やアメリカなどは、シベリアに出兵した。日本ではシベリア出兵を見こした米商人が米の買い占めなどを行ったため、米の価格が上昇した。
- (2) 普通選挙とは、選挙権が財産や納税額、身分などで制限されない選挙のこと。日本では1925年に初めて普通選挙制が実現し、満25歳以上のすべての男子に選挙権が与えられた。
- 問3 (1) 1932年の五・一五事件で犬養毅首相が暗殺されたことで、政党政治はとだえた。
- (2) アは1950年、イは明治時代の1901年、ウは明治時代の1872年のできごとである。
- 問4 1951年にアメリカのサンフランシスコで講和会議が開かれた。日本はアメリカなど48か国とサンフランシスコ平和条約を結び、独立を回復した。
- 問5 五・四運動は1919年に中国でおこった反帝国主義運動、アジア・アフリカ会議は、1955年にインドネシアのバンドンにアジア・アフリカ29か国の首脳が集まって開かれた国際会議である。

社-13-公-栃木-KS-06

- 7** 問1 収穫高に左右されない安定した収入の確保を目的として、1873年に地租改正が行われた。地租改正では、地価（土地の値段）を定め、地価の3%を地租として現金で納めることを定めた。
- 問2 伊藤博文は、憲法調査のためにヨーロッパを訪れ、君主制の強いドイツ（プロイセン）の憲法を参考に、大日本帝国憲法の草案を作成した。
- 問3 アは1902年、イは1920年、ウは1895年、エは1929年のできごと。

- 問4 中国との国交が正常化した1972年は、沖縄がアメリカから日本へ返還された年でもある。
- 問5 第4次中東戦争をきっかけにおきた石油危機によって、日本の経済は大きな打撃を受けた。

社-14-公-栃木-KS-06

- 8 問1 日米修好通商条約により、日本は5港を開き貿易を始めることになったが、この条約は、治外法権（領事裁判権）を認め関税自主権がないという、日本にとって不利な内容をふくんでいた。
- 問2 版籍奉還では、大名から政府へ土地と人民を返還させたが、もとの藩主はそのまま藩知事となっていた。政府は廃藩置県を実施し、藩を廃止し県をおくとともに、政府が任命した県令に地方を治めさせるようにした。
- 問3 アの内閣制度創設は1885年、イの板垣退助が民撰議院設立の建白書を提出したのは1874年、ウの大隈重信が立憲改進黨を結成したのは1882年、エの第1回衆議院議員選挙が行われたのは1890年。
- 問4 GHQの指令のもと、経済の民主化を進めるために、三井、三菱などの財閥が解体された。
- 問5 1956年に日ソ共同宣言に調印してソ連との国交を回復した日本は、ソ連の同意を得て国際連合加盟を実現させた。

社-13-公-群馬-KS-05

- 9 問1 ① 資料Ⅰは民撰議院設立建白書の一部である。この建白書が左院に提出されたころ、政府の中心となっていたのは大久保利通である。
- ② 民撰議院設立建白書が政府に提出されたことをきっかけに、憲法の制定や国会の開設を求める、自由民権運動がさかんになった。
- 問2 資料Ⅲから、女工は1日に15時間以上働き、ほとんど休憩も取っていないことがわかる。
- 問3 1929年にアメリカでの株価の大暴落をきっかけに始まったのは、世界恐慌である。このとき、イギリスやフランスは、植民地との結びつきを強め、それ以外の国との貿易には高い関税をかけることで自国内の産業を保護する、ブロック経済の政策をとった。
- 問4 東ヨーロッパで民主化の動きが高まる中、1989年にベルリンの壁が崩壊し、翌年東西ドイツが統一された。