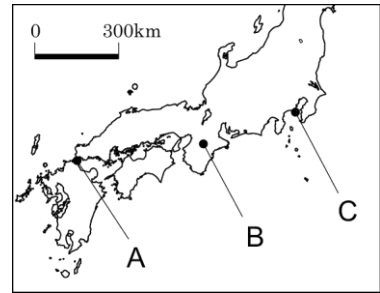


地図

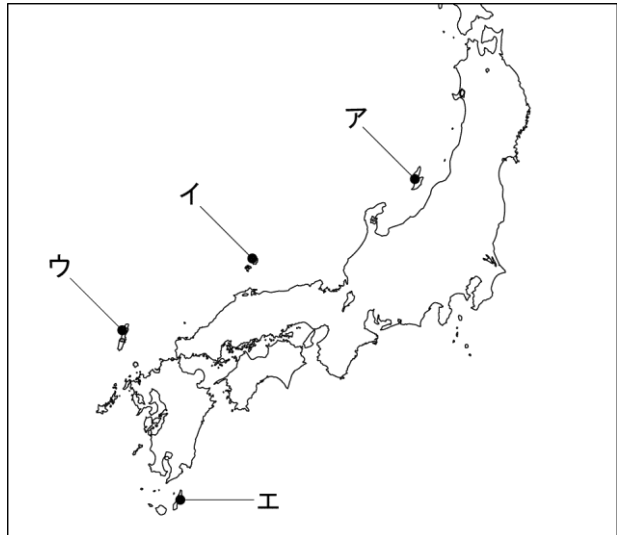
問1 Iの絵は、琵琶法師が「平家物語」を語っているようすを描いたものである。右の略地図中のA、B、Cのうち、この物語に登場する平氏が滅ぼされた場所と、その一族を滅ぼした人物は誰か。2018 愛知

略地図

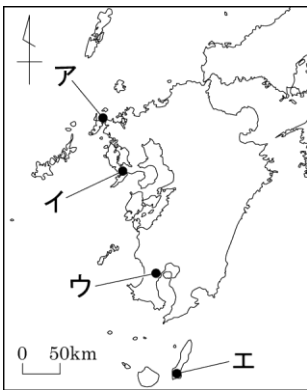


問2 豊臣秀吉の朝鮮侵略以来とぎれていた朝鮮との国交は、江戸時代に入ると対馬藩の努力によって回復した。その後、日本の将軍が代わるごとに朝鮮から使節が派遣されることになった。この使節を何というか、書きなさい。また、対馬の位置を、図1のア～エの中から一つ選んで、その記号を書きなさい。2018 茨城

図1



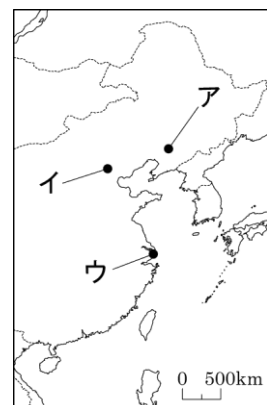
問3



1543年にポルトガル人により伝えられた場所を、図11の・で示したア～エから一つ選び、記号で答えなさい。

問4 1940年のオリンピックが東京で開催されることになったが、a 盧溝橋事件をきっかけにおこった日中戦争の長期化の影響により、わが国は開催権を返上した。かわって開催されることになったヘルシンキでのオリンピックも、1939年にドイツがb (ア ポーランド イ フィンランド)に侵攻したことをきっかけに始まった第二次世界大戦の拡大のため、中止された。下線部aがおこった場所を、図17の・で示したア～ウから一つ選び、記号で答えなさい。また、bの( )の中から適当なものを一つ選び、記号で答えなさい。2019 熊本

図17



## 解答

### 問1 場所A、人物：源義経

平氏が滅ぼされたのは平安時代の末期で、1185年の壇ノ浦の戦いにおいてである。滅ぼしたのは源頼朝の命を受けた源義経。壇ノ浦は現在の山口県にある。

### 問2 朝鮮通信使 ウ

使節名 江戸時代、日本の将軍が代わるごとに約300～約500名の朝鮮通信使が朝鮮(国)から派遣され、対馬藩の役人とともに江戸まで移動した。

位置 対馬藩は、現在の長崎県に属する対馬にあった。よって、ウ。アは佐渡島、イは隠岐(諸島)、エは種子島。

### 問3 エ

鉄砲は、1543年に種子島に漂着した中国船に乗っていたポルトガル人により伝えられた。よって、図11で種子島に位置するのはエ。なお、アは平戸、イは長崎、ウは鹿児島。

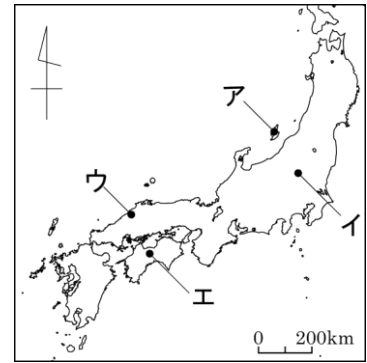
### 問4 b：ア 地図：イ

a 1937年に始まった日中戦争のきっかけの盧溝橋事件は、北京郊外でおこった。よって、図17のイ。

なお、アは奉天(現在の瀋陽)、ウは上海。 b 第二次世界大戦は、ドイツが隣国のポーランドを侵攻したことをきっかけに始まった。よって、アが適当。

問1 16世紀になるとわが国では、石見銀山などで銀の産出量が増大し、中国などに大量に輸出された。また、16世紀に先住民を征服し、植民地とした南北アメリカ大陸で銀山を開発した□も、アジアでの貿易にのりだし、大量の銀を中国にもたらした。石見銀山の場所を、図16の●で示したア～エから一つ選び、記号で答えなさい。また、□に当てはまる国名を書きなさい。

図16



問2 次の資料Iは、A班が世界の古代文明についてまとめた資料の一部であり、資料中の●で示したa～dは、それぞれインダス文明、エジプト文明、中国文明、メソポタミア文明のいずれかの文明がおこった地域を表している。a～dと古代文明の名称の組み合わせとして正しいものを、下のア～エから一つ選び、その記号を書け。2018 高知

資料I

世界の古代文明

	古代文明のおこった地域と使用された文字
インダス文明	インダス川流域でおこり、インダス文字が用いられた。
エジプト文明	ナイル川流域でおこり、象形文字が用いられた。
中国文明	長江と黄河の流域でおこり、黄河の流域では甲骨文字が用いられた。
メソポタミア文明	チグリス川とユーフラテス川の流域でおこり、くさび形文字が用いられた。

- ア a－メソポタミア文明    b－エジプト文明    c－中国文明    d－インダス文明  
 イ a－エジプト文明    b－インダス文明    c－メソポタミア文明    d－中国文明  
 ウ a－中国文明    b－インダス文明    c－メソポタミア文明    d－エジプト文明  
 エ a－エジプト文明    b－メソポタミア文明    c－インダス文明    d－中国文明

解答

問1 石見銀山：ウ 国名：スペイン

問2 エ

紀元前 4000 年ごろから、アジアやアフリカの大河流域では農耕や牧畜が発達し、古代文明が発展した。アフリカのナイル川流域ではエジプト文明、西アジアのチグリス川とユーフラテス川の流域ではメソポタミア文明、インドのインダス川流域ではインダス文明、中国の長江と黄河の流域では中国文明がおこった。

問1 1870年代の時期に結ばれた条約によって日本とロシアとの国境が定められた。その条約と、その時定められた国境を示す地図の組み合わせとして最も適当なものを、下のア～エの中から一つ選び、記号を書きなさい。2020 佐賀

条約 I 樺太・千島交換条約

II ポーツマス条約

地図 a

b



ア I・a

イ I・b

ウ II・a

エ II・b

問2 次の文章は、下線部④についてまとめたものです。まとめの中の  にあてはまる語と  の地図中の位置の組み合わせとして正しいものを、下のア～カの中から一つ選び、その記号を書きなさい。

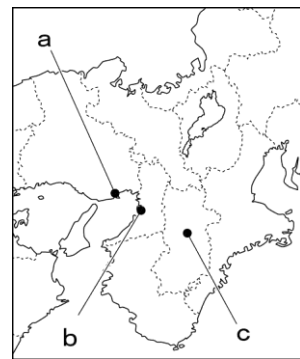
2018 埼玉

まとめ

後醍醐天皇を中心とする、建武の新政が始まると、武士たちの間に不満が高まり、足利尊氏が兵をあげると、新政は2年ほどでくずれた。

尊氏は京都に新たに天皇を立て、後醍醐天皇が  にのがれたので、二つの朝廷が生まれた。京都方を北朝、 方を南朝と呼び、この南北朝は全国の武士に呼びかけて戦った。南北朝の動乱が続いた約60年を南北朝時代という。

地図



ア P-堺

位置-a

イ P-堺

位置-b

ウ P-堺

位置-c

エ P-吉野

位置-a

オ P-吉野

位置-b

カ P-吉野

位置-c

解答

問1 イ

1875年に結ばれたのが樺太千島交換条約。ロシアに樺太の領有を認め、千島列島は全て日本領となった。

1905年に結ばれたのはポーツマス条約。北緯50度以南の樺太の割譲が決まった（地図a）。

問2 カ

足利尊氏らの協力で鎌倉幕府を倒した後醍醐天皇は、天皇中心の新しい政治である建武の新政を始めたが、公家重視の政策に武士の不満が高まり、足利尊氏が武家政治の再興を呼びかけて兵をあげると、天皇は吉野にのがれて建武の新政は2年ほどで終わり、南北朝の動乱が始まった。地図中のaは神戸、bは堺である。

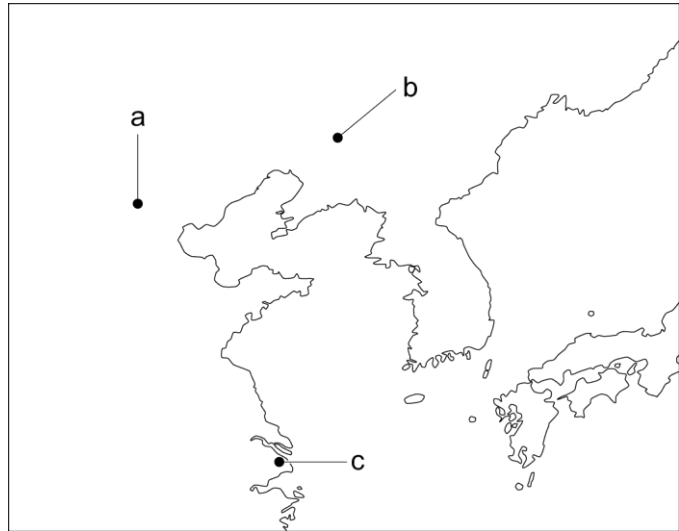
問1 次の文章は、年表中Dの時期のできごとについてまとめたものです。まとめ2の中の **Y** にあてはまる語と **Y** の地図中の位置の組み合わせとして正しいものを、下のア～カの中から一つ選び、その記号を書きなさい。2019 埼玉

まとめ2

国際連盟は、1933年に開かれた総会で、満州国を認めず、日本軍の占領地からの撤兵を求める勧告を採択した。その後、日本は、国際連盟を脱退した。

1937年7月、北京郊外の **Y** 付近で、日本軍と中国軍の武力衝突が起こった。この **Y** 事件をきっかけに、日中戦争が始まった。

地図



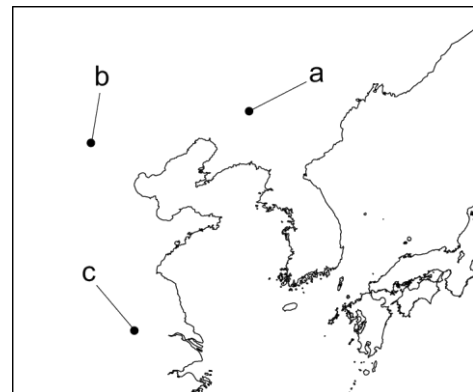
- |         |      |         |      |
|---------|------|---------|------|
| ア Y－盧溝橋 | 位置－a | イ Y－盧溝橋 | 位置－b |
| ウ Y－盧溝橋 | 位置－c | エ Y－柳条湖 | 位置－a |
| オ Y－柳条湖 | 位置－b | カ Y－柳条湖 | 位置－c |

問2 次の文章は、年表中Bの時期のできごとについてまとめたものです。まとめの中の **P** にあてはまる人物名を書きなさい。また、まとめの中の **Q** にあてはまる語と **Q** の地図中の位置の組み合わせとして正しいものを、下のア～カの中から一つ選び、その記号を書きなさい。2020 埼玉

まとめ

中国では、清を倒して漢民族の独立と近代国家の建設を目ざす革命運動が盛り上がりました。その中心となった **P** は三民主義を唱えて革命運動を進めました。1911年、武昌で軍隊が反乱を起こすと、革命運動は全国に広がり、多くの省が清からの独立を宣言しました。翌年、**P** が臨時大総統になり、**Q** を首都とする、アジアで最初の共和国である中華民国が建国されました。

地図



- |        |      |        |      |        |      |
|--------|------|--------|------|--------|------|
| ア Q－南京 | 位置－a | イ Q－南京 | 位置－b | ウ Q－南京 | 位置－c |
| エ Q－北京 | 位置－a | オ Q－北京 | 位置－b | カ Q－北京 | 位置－c |

解答

問1 ア

日中戦争は、北京郊外の盧溝橋付近で、日本軍と中国軍の武力衝突（盧溝橋事件）をきっかけに始まり、盧溝橋の位置は地図中の a。よって、アの組み合わせが正しい。なお、奉天（現在の瀋陽）郊外の柳条湖は 1931 年、日本軍が満州事変のきっかけである南満州鉄道の線路の爆破を行ったところ（位置は地図中の b）。

問2

人物名	孫文
記号	ウ