

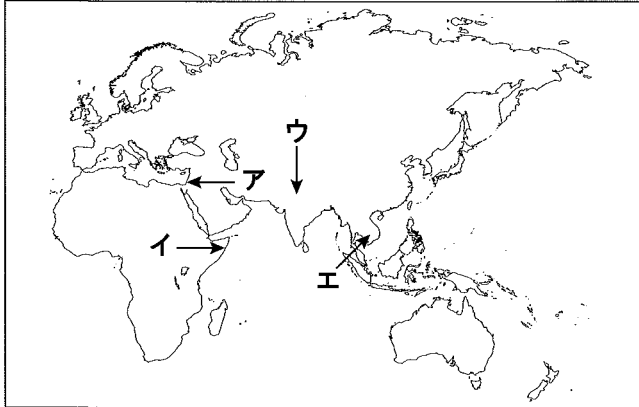
公民全国答練 わたしたちの生活と現代社会

80点以上が合格！41～79点は再テスト！40点以下は宿題プレゼント！

第1回

問1 30点 問2 50点 問3 20点

点



問1 世界ではさまざまな戦争や紛争が起こっているが、そのなかにはパレスチナ問題がある。パレスチナとはどこか、地図中のア～エから一つ選んで記号で答えなさい。

2010 島根

問2 わが国で、1950年代後半から20年ほど続いた高度経済成長の時期に、家庭に普及したものの組み合わせとして最も適当なものを、ア～エから選びなさい。

2011 北海道

- ア 電気そうじ機，パソコン，電気洗濯機
- イ 電気そうじ機，白黒テレビ，CDプレーヤー
- ウ 電気冷蔵庫，白黒テレビ，電気洗濯機
- エ 電気冷蔵庫，パソコン，CDプレーヤー

問3 高度経済成長時代のわが国の様子について述べた文として誤っているものを、ア～エから選びなさい。 2010 北海道

- ア 冷蔵庫などの電気（電化）製品が、家庭へ急速に普及した。
- イ 大都市に人口が集中し、過密が問題となった。
- ウ インターネットの利用者が急増し、情報化が進んだ。
- エ 東京オリンピックや大阪万国博覧会（大阪万博）が開催された。

公民全国答練 わたしたちの生活と現代社会

80点以上が合格！41～79点は再テスト！40点以下は宿題プレゼント！

第1回解答

問1 ア

パレスチナは、西アジアの地中海東岸の地域。

問2 ウ

高度経済成長期に家庭に普及したのは、電気冷蔵庫、白黒テレビ、電気洗濯機で、これらは当時「三種の神器」とよばれていた。パソコンが家庭に普及したのは1990年代、CDプレーヤーが発売されたのは1980年代。

問3 ウ

公民全国答練 わたしたちの生活と現代社会

80点以上が合格！41～79点は再テスト！40点以下は宿題プレゼント！

第2回

問1 30点 問2 50点 問3 20点

点

問1 今日の国際社会においては、世界を一体化する（㉞）化という動きが進み、各国の人々が協力し合い、相互理解をはかっていくことが重要となっています。2011 青森

（㉞）にあてはまる語として適切なものを書きなさい。

問2 私たちは、情報社会に生きています。情報社会においては、簡単に大量の情報を得ることができますが、その情報を活用していくうえで、どのようなことに気をつけなければならないか、簡潔に述べなさい。2012 宮城

問3 高度経済成長期について、この時期のできごととしてあてはまるものを、次のア～エの中から一つ選びなさい。2010 福島

ア 東京オリンピックが開催された。

イ 牛肉・オレンジの輸入自由化が決定された。

ウ 財閥解体が行われた。

エ 日韓共催サッカーワールドカップが開催された。

公民全国答練 わたしたちの生活と現代社会

80点以上が合格！41～79点は再テスト！40点以下は宿題プレゼント！

第2回解答

問1 グローバル

問2 大量の情報の中から、必要な情報を主体的に判断し、選択して活用していくこと。

問3 ア

高度経済成長は、1950年代後半から1970年代前半の時期。

アは1964年、イは1988年、ウは1945年、エは2002年。

公民全国答練 わたしたちの生活と現代社会

80点以上が合格！41～79点は再テスト！40点以下は宿題プレゼント！

第3回

問1 30点 問2 30点 問3 40点

点

問1 図3は、文中の

Ⅱ 隊の活動内容を示したものである。図3を参考にして、Ⅱ に当てはまる語を書きなさい。2010 栃木

図3

対象	満20歳から満39歳		
募集	約1300	派遣	原則とし
活動概	発展途上国からの要請に基づき、自分の技術や経験を生かしボランティアとし		
協力	農林水産、保健衛生、教育文化、スポーツ		
派遣国	アジア、アフリカ、中南米などの国々		

(「国際協力機構(JICA)ホームページ」により作成)

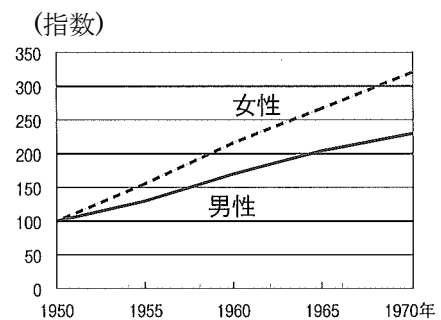
問2 次の文中の に当てはまる語を書きなさい。

高度経済成長のはじまった1950年代後半から60年代にかけて、家庭に急速に普及した電化製品のうち、洗濯機、白黒テレビ(または掃除機)、 は「三種の神器」とよばれた。2011 栃木

問3

「三種の神器」などの耐久消費財が普及したことに関して、この普及がもたらした社会の変化を資料Ⅱから読み取り、「家事」という語を用いて、簡潔に書きなさい。2011 群馬

資料Ⅱ 男女別雇用者数の推移



※指数は、1950年を100としている。
(統計局ホームページなどにより作成)

公民全国答練 わたしたちの生活と現代社会

80点以上が合格！41～79点は再テスト！40点以下は宿題プレゼント！

第3回解答

問1 青年海外協力

問2 冷蔵庫

問3 家事にかかる負担が軽減され、女性の社会進出が進んだ。

公民全国答練 わたしたちの生活と現代社会

80点以上が合格！41～79点は再テスト！40点以下は宿題プレゼント！

第4回

問1 30点×2 問2 40点

点

問1 次のグラフ1は、1956年から1979年までの、日本の経済成長率の変化を示したものです。グラフ1中の ←————→ で示した時期における日本の様子について述べた文として正しいものを、ア～オの中から二つ選び、その記号を書きなさい。2012 埼玉

ア 発行部数が100万部をこ

える新聞があらわれ、ラジオ放送も始まり全国に普及した。

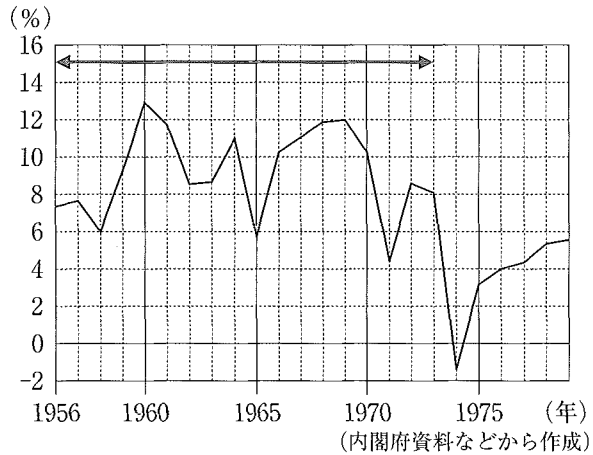
イ 白黒テレビが広まり、ついでカラーテレビが普及していった。

ウ 企業がもつ余った資金が、株式や土地に投資され、株式や土地の価格が大幅に上昇する「バブル経済」がおこった。

エ 東海道新幹線が開通した。

オ 渡良瀬川流域で、公害問題が発生し、田中正造がこの問題解決に取り組んだ。

グラフ1 日本の経済成長率の変化



問2 近年では、経済活動や人の移動が国の枠を越えて地球規模で広がっている。このような動きを表す適切な語句を次のア～エから1つ選び、記号を書きなさい。2010 長野

ア バブル経済

イ グローバル化

ウ 少子高齢化

エ デフレーション

公民全国答練 わたしたちの生活と現代社会

80点以上が合格！41～79点は再テスト！40点以下は宿題プレゼント！

第4回解答

問1 イ、エ

矢印の時期は、高度経済成長期。アは大正時代、ウは1980年代後半、オは明治時代の様子。

問2 イ

公民全国答練 わたしたちの生活と現代社会

80点以上が合格！41～79点は再テスト！40点以下は宿題プレゼント！

第5回

問1 20点×2 問2 30点 問3 30点

点

問1 留学生30万人計画は、情報や経済など様々な分野でグローバル化が進む中、日本政府が打ち出した、外国から留学生を積極的に受け入れる政策である。このことについて、次の(1)、(2)に答えなさい。 2012 石川

(1) この政策の背景にある、情報や経済など様々な分野で進んだグローバル化とはどのようなことか、書きなさい。

(2) 日本政府が留学生を積極的に受け入れることには、どのようなねらいがあると考えられるか、資料3をふまえて書きなさい。

資料3 日本で学んだ留学生の声

多くの人々が異なる文化を体験し、それぞれの文化を理解してもらうため、私たち留学生は日本でも母国でも努力したいと思います。人と人が顔を合わせるとき、国境も言葉の障壁もなくなります。そして、本当の人間としての連帯が芽生えると確信しています。

(「外国人による日本語弁論大会」ホームページより作成)

問2 バブル経済の崩壊以降の日本経済のようすを示すものとして最も適切なものを、ア～エから一つ選び、符号で書きなさい。 2010 岐阜

- ア 「三種の神器」といわれた人気電化製品が、急速に普及した。
- イ 銀行が、不動産の取り引きなどのために巨額の資金を融資した。
- ウ 株価や物価が下がり、企業が倒産して、失業者も増えた。
- エ 高い経済成長率が続き、世界有数の経済大国になった。

問3 地球規模での環境問題について述べた次の文章の□□にあてはまる最も適切なことばを、漢字3字で書きなさい。なお、文章中の2か所の□□には、同じことばがあてはまる。 2010 愛知

工場などから大気中に排出される物質が上空で変化し、□□とよばれる雨となって、国境を越えて降り注ぐ。この□□が一因となって、チェコやドイツなどヨーロッパをはじめ世界各地で森林が枯れたり、湖の生物が死滅したりするなど

公民全国答練 わたしたちの生活と現代社会

80点以上が合格！41～79点は再テスト！40点以下は宿題プレゼント！

第5回解答

問1

(1) お金や人、ものが、国のわくをこえてさかんに移動するようになること。

(2) 日本と諸外国の相互理解と友好親善を促進するため。

問2 ウ

アとエは1950年代から1970年代にかけての高度経済成長期。イはバブル経済の時期のようす。

問3 酸性雨

工場や自動車などから排出される硫黄酸化物や窒素酸化物が大気中で反応して、強い酸性の雨となって降り注ぐのが酸性雨である。

公民全国答練 わたしたちの生活と現代社会

80点以上が合格！41～79点は再テスト！40点以下は宿題プレゼント！

第6回

問1 25点×2 問2 50点

点

問1 資料2を読み、(1)、(2)の問いに答えなさい。2014 佐賀

資料2 タイの友人Cさんとの会話

A：2011年の大洪水がすごく記憶に残っているけど、大変だったでしょ？

C：そうだね。こちらに進出している日系企業も洪水の被害にあっていたよ。だから、日本経済にも影響を与えたはずだよ。が加速してるね。

(1) には、「地球規模での政治・経済・文化の一体化」を意味する語句が入る。あてはまる語句を書きなさい。

(2) 下線部について、日本の企業が生産拠点を海外に移すことは企業にとってどのような利点があるか、簡潔に書きなさい。

問2 裕子さんは、「高齢者・乳幼児にやさしいプラン」を作成していたところ、市では資料ⅢのA案とB案を「公正」、「効率」の考え方にもとづいて検討していることを知りました。あなたはA、Bどちらの案に賛成しますか。解答用紙の案の記号に丸をつけて、A案は「公正」、B案は「効率」の考え方にもとづいて、その賛成する理由を具体的に書きなさい。2013 宮崎

資料	現在、市が検討しているプラン（一部）	
A案	B案	
市内に住む80歳以上のすべての高齢者と、小学校入学までのすべての乳幼児の医療費を無償にします。	市内に複数あるデイサービスセンターや保育園を1つに統合します。	

公民全国答練 わたしたちの生活と現代社会

80点以上が合格！41～79点は再テスト！40点以下は宿題プレゼント！

第6回解答

問1

(1) グローバル化

(2) (例) 安い人件費で商品生産ができる。

／原材料を原産国で手に入れることができる。

／販売市場を拡大することができる。

問2

(A案の例)

医療を受ける機会が平等に保障されるので、特定の人が不利になることがないから。

(B案の例)

重複する施設や人員を減らすことができ、市の予算を無駄なく使うことができるから。

公正は、ある特定の人だけが不利になることがないようにすること。効率は、時間やお金などを無駄にすることなく有効に使うこと。

公民全国答練 わたしたちの生活と現代社会

80点以上が合格！41～79点は再テスト！40点以下は宿題プレゼント！

第7回

問1 25点×2 問2 50点

点

次の文は、政治のはたらきについて学習したときの授業の一場面である。次の各問いに答えなさい。2013 熊本

智子：政治のはたらきには、どんなことがありますか。

先生：たとえば、政治には、人びとのあいだに対立が生じた場合、それを へと導く重要なはたらきがありますね。学校生活のなかでも、そのようなことは何かありませんでしたか。

卓也：そういえば、生徒会の話し合いでクラスマッチの種目を決めたとき、なかなか決まらず、意見の対立がありました。

智子：話し合いでまとめようとしたのですが、うまくいきませんでした。最後には、①多数決で決めようということになりました。

先生：なるほど、みんなが納得できる方法を考えて、 に達するようにしたんだね。そのような解決策を考えるときには、無駄がないようにする効率の考え方と、手続きや結果などが平等になるようにする の考え方が重要です。

卓也：政治のはたらきは、身近なところにもあるんですね。

先生：そうですね。②わが国の政治も、代表者である国会議員を③選挙で決めることなど基本的なしくみは同じなのです。

問1 , に当てはまる語として最も適当なものを、次のア～オからそれぞれ一つずつ選び、記号で答えなさい。ただし、 には同じ語が当てはまる。

ア 公正 イ 分配 ウ 共有 エ 合意 オ 連携

: :

問2 下線部①について、この話し合いでは、みんなが納得できる方法として多数決で決めることにしたが、多数決で決定することの利点を一つ書きなさい。

公民全国答練 わたしたちの生活と現代社会

80点以上が合格！41～79点は再テスト！40点以下は宿題プレゼント！

第7回解答

問1 a :エ , b :ア

- a 対立が発生したときは、合意に達するように努力する必要がある。
- b 手続きや結果などが平等になるようにする考え方を、公正という。

問2 (例) 全員が意思決定に参加できること。

多数決では、最も多数の人が賛成する内容を決定事項として採用する。

公民全国答練 わたしたちの生活と現代社会

80点以上が合格！41～79点は再テスト！40点以下は宿題プレゼント！

第8回

問1 25点×2 問2 30点 問3 20点

点

問1 由香さんは、「地域の活性化」に興味を持ち、ある市の予算の使い方について調べる中で、資料Ⅳ、Ⅴの新聞記事を見つめました。現在、この市では資料Ⅳ、Ⅴの2つの案が議論されています。資料Ⅳ、Ⅴに賛成する立場はそれぞれどのような考え方にもとづいているか、資料Ⅳは「公正」の観点から「平等」という語を使って、資料Ⅴは「効率」の観点から「無駄」という語を使って、それぞれ具体的に書きなさい。2014 宮崎

資料Ⅳ	新聞記事「市が赤字バス路線を存続へ」
全国各地で赤字バス路線の見直しが行われる中、市は赤字バス路線を存続させるために、予算を使う案を検討している。	
資料Ⅴ	新聞記事「市が施設の再利用へ」
市は現在使用されていない公共の建物を、高齢者の介護施設として再利用するために、予算を使う案を検討している。	

資料Ⅳ：

資料Ⅴ：

問2 日本国憲法が施行された日は、国民の祝日となっている。この国民の祝日と最も近い日に行われる年中行事はどれか。2013 鹿児島

ア ^{ひがん}彼岸 イ ^{たんご}端午の節句 ウ ^{ぼん}お盆（^{うらぼんえ}盂蘭盆会） エ ^{しちごさん}七五三

問3 日本にはさまざまな伝統的な行事がある。日本の年中行事を、1月から順に並べたものとして正しいものを、次のア～エから一つ選んで記号で答えなさい。

2013 島根

- ア 初もうで→端午の節句→ひな祭り→お盆→大掃除（すす払い）
- イ 初もうで→端午の節句→お盆→ひな祭り→大掃除（すす払い）
- ウ 初もうで→ひな祭り→端午の節句→お盆→大掃除（すす払い）
- エ 初もうで→ひな祭り→お盆→端午の節句→大掃除（すす払い）

公民全国答練 わたしたちの生活と現代社会

80点以上が合格！41～79点は再テスト！40点以下は宿題プレゼント！

第8回解答

問1 解答

資料Ⅳ	(例) すべての人が <u>平等</u> に交通手段を確保できるという考え方。
資料Ⅴ	(例) 使用されていない公共の建物が <u>無駄</u> にならないように活用できるという考え方。

資料Ⅳでは、利用者が少ない地域の人もふくめて、だれもがバスを利用できるようにするという考え方、資料Ⅴでは、使用されていない施設を無駄にしないで活用していくという考え方にもとづいている。

問2 イ

日本国憲法は、1946年11月3日に公布され、翌1947年5月3日に施行された。施行された日は憲法記念日になっている。これと最も近いのは、5月5日に行われる端午の節句である。彼岸は3月と9月、お盆は8月、七五三は11月の年中行事。

問3 ウ

初もうでは1月、ひな祭りは3月、端午の節句は5月、お盆は8月、大掃除は12月である。

公民全国答練 わたしたちの生活と現代社会

80点以上が合格！41～79点は再テスト！40点以下は宿題プレゼント！

第9回

問1 50点 問2 50点

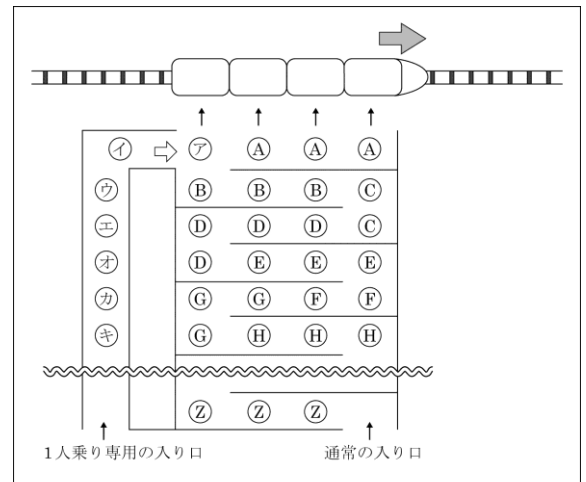
点

問1 私たちの社会では、よりよい生活を営むために、効率や公正の観点から、誰もが合意できるように、さまざまな取り決めやルールがつくられている。

ある遊園地には、4人乗りの人気のアトラクションがあり、常に長い行列ができています。この遊園地では、下の図のように、そのアトラクションに通常の入口だけでなく、1人乗り専用の入りを設けている。1人乗り専用の入り口は、空席ができた場合に、その空席に乗ることを希望する人のための入り口であり、この入り口に並ぶ人は、通常の入りに並ぶ人より後から来ても、先に乗ることができている。

この遊園地はどのような考えにもとづいて、1人乗り専用の入り口を設けていると考えられるか。効率の観点から、簡単に書け。

2015 香川



※ (A), (B) …は、それぞれ家族や友達など、同じグループを表している。

問2 A班のテーマについて、次の資料1は、1975年と2000年の、日本の人口総数と年齢別人口割合を示したものである。資料1から読み取れる現代日本の特色として最も適当なものはどれか、あとのア～エから1つ選び、その記号を書きなさい。

2014 三重

資料1

年	人口総数 (千人)	年齢別人口割合 (%)		
		0～14	15～64	65歳以
1975	111,940	24.3	67.7	7.9
2000	126,926	14.6	68.1	17.4

(「人口統計資料集2013」から作成)

ア ^{かそ}過疎化 イ 情報化 ウ ^{こうれい}少子高齢化 エ グローバル化

公民全国答練 わたしたちの生活と現代社会

80点以上が合格！41～79点は再テスト！40点以下は宿題プレゼント！

第9回解答

問1 (解答例) 空席が埋まって無駄がなくなる。

より多くの客が乗ることができる。 などから一つ

効率とは時間やお金などを無駄なく使っているか、公正とは機会や結果が特定の人に対して不利になっていないか、という観点である。問題の遊園地では、空席をなくすことで無駄をなくすという、効率を重視している。

問2 ウ

1975年に比べて2000年は、0～14歳の人口割合が減り、65歳以上の割合が増えていることがわかる。

公民全国答練 わたしたちの生活と現代社会

80点以上が合格！41～79点は再テスト！40点以下は宿題プレゼント！

第10回

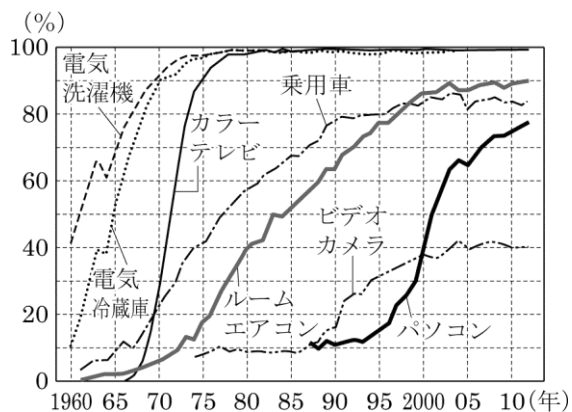
問1 50点 問2 20点 問3 30点

点

問1 民主政治に関し、意見の対立がある場合に多数決は有効な方法ですが、多数決を行う際に、どのようなことに注意する必要がありますか、簡潔に書きなさい。2013 和歌山

問2 資料Ⅲは、4班が下線部④家庭電化製品・乗用車の普及率についてまとめたものの一部である。資料Ⅲから読み取れることとして最も適当なものはどれか、次の(ア)～(エ)から1つ選べ。

資料Ⅲ 家庭電化製品・乗用車の普及率



- (ア) 電気洗濯機の普及率で比較すると、1970年は、1960年の2倍以上である。
- (イ) ルームエアコンの普及率は、1965年以降は、常に60%を下まわっている。
- (ウ) ビデオカメラの普及率は、1975年以降は、常に60%以上であるが、2005年には、パソコンの普及率の方がビデオカメラの普及率よりも上まわっている。
- (エ) 1970年から1975年までの5年間で、最も普及率が上昇しているのは乗用車である。

問3 次の文中の に共通して入る略称をアルファベットで書きなさい。2015 兵庫

国際連合を中心とした国際平和を実現するために、1992年、日本は 協力を定めた。カンボジアや東ティモールなどの地域において に参加し、停戦を監視して、戦争の再発を防ぐ活動などを行った。

公民全国答練 わたしたちの生活と現代社会

80点以上が合格！41～79点は再テスト！40点以下は宿題プレゼント！

第10回解答

問1 少数意見を尊重し、十分に議論する。

多数決は、最も多くの人が賛成することを採用する決め方である。十分に話し合った上で採決し、少数意見も尊重しなければならない。

問2 ア

ア 電気洗濯機の普及率は1960年が約40%、1970年はその2倍以上の約90%なので、正しい文である。

イ ルームエアコンの普及率は、1980年代末以降は60%を超えている。

ウ ビデオカメラの普及率は60%未満である。

エ 1970年から1975年の5年間で最も普及率が上昇したのはカラーテレビである。

問3 PKO

PKOは国連平和維持活動の略。日本では1992年に国連平和維持活動（PKO）協力法が成立し、自衛隊の国連平和維持活動への参加が行われるようになった。

公民全国答練 わたしたちの生活と現代社会

80点以上が合格！41～79点は再テスト！40点以下は宿題プレゼント！

第11回

問1 30点 問2 20点 問3 25点×2

点

問1 現在の国際社会は、グローバル化が進展している。このグローバル化とはどういうことか。「国境」という語句を用いて書きなさい。2013 新潟

問2 (e) 少子高齢化について、次の文は、日本の将来の年齢別人口の推移について述べたものである。資料2を参考にして、、に入る適切な数字をア～カからそれぞれ選び、記号を書きなさい。2015 富山

資料2 年齢別人口の推移と将来推計

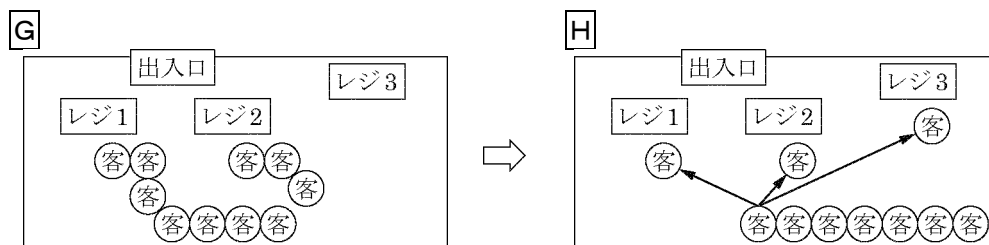
	総人口 (万人)	0歳～ 19歳	20歳～ 64歳	65歳～
2013	12,730	2,244	7,296	3,190
2060	8,674	1,104	4,105	3,464

(厚生労働省資料より作成)

0～19歳の人口が総人口に占める割合は、2013年では約18%であるが、2060年には約13%に減少している。一方、65歳以上の人口が総人口に占める割合は、2013年では約%であるが、2060年には約%に増加している。

ア 20 イ 25 ウ 30 エ 35 オ 40 カ 45

問3 ある店舗では、図のように客からの要望を踏まえて、客が自由にレジに並んでいた状態[G]から、客が順番に一直線に整列した上で、空いたレジへ順次進む状態[H]へ変更した。[H]の状態となったことによるよい点を、「効率と公正」の観点を踏まえ、解答欄にあわせて簡潔に説明せよ。2015 福井



() ため、効率がよい。

() ため、公正である。

公民全国答練 わたしたちの生活と現代社会

80点以上が合格！41～79点は再テスト！40点以下は宿題プレゼント！

第11回解答

問1 (例) 人・商品・お金・情報などが、国境を越えて、地球規模で広がっていくこと。

問2 A イ, B オ

65歳以上の人口が総人口に占める割合は、 $65\text{歳以上人口} \div \text{総人口} \times 100$ で求める。

2013年は $3190 \div 12730 \times 100 = 25.05\cdots$ より約 25.1%。

2060年は $3464 \div 8674 \times 100 = 39.93\cdots$ より約 39.9%。

問3 空いているレジがないため、効率がよい。

並んだ順番に対応するため、公正である。

Gでは、並んだレジによって時間がかかってしまうことがある。

空いたレジから対応できるHでは、並んだ順に客はレジを利用できる。

公民全国答練 わたしたちの生活と現代社会

80点以上が合格！41～79点は再テスト！40点以下は宿題プレゼント！

第12回

問1 20点×3 問2 20点×2

点

問1 下の表は、3班が資料Cの下線部③に関連してつくった行事食の^{こよみ}暦である。表中の①～③に当てはまる行事を、次のア～エから一つずつ選び、記号で書きなさい。

2015 山梨

月	1	2	3	4	5	6	7	8	9	10	11	12
行事	正月	①	ひな祭り お彼岸 <small>ひがし</small>		②		七夕 <small>たなばた</small>		十五夜 お彼岸		③	冬至 <small>とうじ</small> 大みそか
行事食	おせち	福豆	ちらしずし ぼたもち		かしわもち		そうめん		だんご おはぎ		ちとせ <small>あめ</small> 飴	かぼちや料理 そば

(注) 行事の実施時期は、年や地域によって異なる場合がある。

ア 小正月

イ 七五三

ウ 端午の節句たんご せっき

エ 節分

① :

② :

③ :

問2 レポート4のか、きに当てはまる適切な語句をそれぞれ書きなさい。ただし、かは漢字4字で書くこと。2015 長野

か :

き :

レポート4 日本の人口減少を考えていく中で、世代間の公平や、男女間の平等の大切さがわかった。これらの課題に対して、将来の世代の幸福を満たすようにしながら現在の世代の幸福を満たすような か な社会をつくるという観点から考えていくことが必要だ。私は、国家のあり方を最終的に決める き 者としての自覚をもって、課題意識を大切にしながら社会を学んでいきたい。

公民全国答練 わたしたちの生活と現代社会

80点以上が合格！41～79点は再テスト！40点以下は宿題プレゼント！

第12回解答

問1 ㉠エ、㉡ウ、㉢イ

2月は節分、5月は端午の節句、11月は七五三といった年中行事がある。

問2 ㉠か：持続可能 ㉡き：主権

か 将来の世代の幸福と現在の世代の幸福との両立という意味が、「持続可能」という言葉にはある。

き 国家のあり方を最終的に決める権利を主権といい、憲法は主権が国民にあると定めている。

公民全国答練 わたしたちの生活と現代社会

80点以上が合格！41～79点は再テスト！40点以下は宿題プレゼント！

第13回

問1 50点 問2 50点

点

問1 国際連合の総会では、人口や経済力の規模などにかかわらず、すべての加盟国が話し合いに参加する。この話し合いを、 という視点で考えると、参加者みんなの意見が決定に反映されるという長所があげられる一方、 という視点で考えると、決定に時間がかかることがあるという短所があげられる。2014 岐阜

, にあてはまることばの正しい組み合わせを、ア～ウから一つ選び、符号で書きなさい。

ア f = 対立 g = 公正

イ f = 公正 g = 効率

ウ f = 効率 g = 対立

問2 表2は現在の日本で広く行われている、おもな年中行事を示したものである。表中の ～ に当てはまる語の組み合わせを、下のア～カの中から一つ選んで、その記号を書きなさい。2014 茨城

表2

1月 初もうで	7月 ^{たなばた} 七夕
2月 <input type="text" value="a"/>	8月 *お盆 (^{うらぼんえ} 盂蘭盆会)
3月 ひな祭り 彼岸	9月 彼岸
4月 花祭り (^{かんぶつえ} 灌仏会)	11月 <input type="text" value="c"/>
5月 <input type="text" value="b"/>	*お盆は一部の地域では7月中旬

ア [a 七五三 b 節分 c ^{たんご}端午の節句]

イ [a 七五三 b 端午の節句 c 節分]

ウ [a 端午の節句 b 節分 c 七五三]

エ [a 端午の節句 b 七五三 c 節分]

オ [a 節分 b 端午の節句 c 七五三]

カ [a 節分 b 七五三 c 端午の節句]

公民全国答練 わたしたちの生活と現代社会

80点以上が合格！41～79点は再テスト！40点以下は宿題プレゼント！

第13回解答

問1 イ

f すべての加盟国の意見が決定に反映されることから、公正であると言える。

g 効率とは、時間や労力などを無駄なく利用すること。決定までに時間がかかることは、効率的ではない。

問2 オ

節分は2月の行事で、豆まきをして邪鬼を追い払う。端午の節句は5月の行事で、男の子の健やかな成長を願う。七五三は11月の行事で、子どもの成長を祝う。

公民全国答練 わたしたちの生活と現代社会

80点以上が合格！41～79点は再テスト！40点以下は宿題プレゼント！

第14回

問1 50点 問2 30点 問3 20点

点

問1 次の文は、綾^{あや}さんが「私たちと現代社会」の学習のまとめとして、「効率と公正」に関する身近な事例について書いたレポートの一部である。これを読んで、次の問いに答えなさい。

政治とは利害関係を調整してものごとを決めていくことであり、国内の政治と国際社会での政治があるそうです。つい最近私も学校で利害関係の調整を体験しました。

先日、生徒会が文化祭で使用する教室を各クラスに割り当てたところ、三つのクラスが教室の他に体育館の使用も希望しました。そこで調整会議が行われ、私は実行委員として参加しました。三つのクラスの代表者と実行委員と担当の先生を交えてよく話し合った結果、体育館を三つのクラスで三分割して使用することに決まりました。

ものごとを決める際には「効率」や「公正」の面から検討することも大切です。今回の調整会議で決められた内容を、「効率」の面から見ると ので満たしているといえます。また、三つのクラスとも体育館を使うことに決まり、不当に不利益を被^{こうむ}っているクラスがないので、「公正」の面でも満たしているといえます。

★文中の調整会議で決められた内容について、綾さんはなぜ「効率」の面を満たしていると考えたか。文中の内容に基づいて、 に当てはまるように簡潔に書きなさい。なお、「無駄」の語を用いること。2014 栃木

問2 国やさまざまな集団において、対立や問題が生じた場合に合意を形成するための民主的な意思決定のあり方として、全員の意見の一致や の原理が挙げられる。

2015 栃木

問3 次のアからエを1月から順に並べた時に3番目に当たるのはどれか。2015 栃木

ア 七夕

イ 七五三

ウ ひな祭り

エ 端午の節句

公民全国答練 わたしたちの生活と現代社会

80点以上が合格！41～79点は再テスト！40点以下は宿題プレゼント！

第14回解答

問1 体育館を、無駄なく使うことになった

「効率」とは、時間や設備、お金などを無駄なく使うこと。綾さんは体育館という施設を無駄なく利用できることで、「効率」の面を満たしていると考えた。

問2 多数決

多数決とは、最も賛成する人が多い意見を採用すること。多数決で決めるときは、少数意見を尊重することが大切である。

問3 ア

ウのひな祭りは3月、エの端午の節句は5月、アの七夕は7月、イの七五三は11月の年中行事。

公民全国答練 わたしたちの生活と現代社会

80点以上が合格！41～79点は再テスト！40点以下は宿題プレゼント！

第15回

問1 40点 問2 30点 問3 20点

点

問1

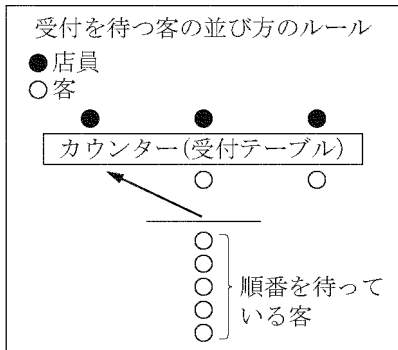
資料Ⅱのように、消費支出のうち、通信費が増加した理由として考えられることを、「情報化」という語を用いて、簡潔に書きなさい。2013 群馬

資料Ⅱ 消費支出の変化（月平均）

	1990年	2010年
通信費	6,493円	12,014円
消費支出 全体	311,174円	290,788円

問2 資料Ⅱは、受付を待つ客の並び方のルールを図で表したものである。このルールは、どのような考えにもとづいて合意されているのか、「効率と公正」の観点からふまえて、簡潔に書きなさい。2013 群馬

資料Ⅱ 「2班：効率と公正」



問3 次は、伝統的工芸品に関連してTさんがまとめた文章です。文章中の にあてはまる語を書きなさい。2014 埼玉

埼玉県では、春日部桐箆筒、江戸木目込人形（さいたま市や春日部市など）、岩槻人形の三品目が伝統的工芸品に指定されている。特に、埼玉県の節句人形・ひな人形の生産額は全国第一位である。ひな祭りなどの年中行事のときには、こうした人形が飾られている。

国は 保護法などの法律を制定し、年中行事や民俗芸能のような民俗 ，芸能や工芸技術のような無形 などの保存や活用に努めている。

公民全国答練 わたしたちの生活と現代社会

80点以上が合格！41～79点は再テスト！40点以下は宿題プレゼント！

第15回解答

問1 (例) 携帯電話やインターネットの普及など、情報化が進んだこと。

通信費は、電話料金、携帯電話やインターネットの利用料金などがあてはまる。携帯電話やインターネットの利用が広まるなど、情報化が進んだことで、通信費が増加している。

問2 (例) 並んだ順に受付され、空いている受付がないので、効率がよく公正である。

並んだ順に空いている受付に進むことができるので効率よく、また並んだ列によって待つ時間が違うということがないので、公正に受付をすませることができる。

問3 **文化財**

文化財は、建築物や絵画などの有形文化財、芸能や工芸技術などの無形文化財、風俗慣習や民族芸能などの民俗文化財、遺跡や名勝地などの記念物などに分類される。文化財保護法は貴重な文化財を守るために、1950年に制定された。

公民全国答練 わたしたちの生活と現代社会

80点以上が合格！41～79点は再テスト！40点以下は宿題プレゼント！

第16回

問1 50点 問2 30点 問3 20点

点

問1 優馬さんは、「日本社会のグローバル化」について調べ、発表した。資料Ⅳ、資料Ⅴは、そのときに使用したものの一部である。次の①、②の問いに答えなさい。2014 群馬

- ① 資料Ⅳの に当てはまる語を書きなさい。
- ② 下線部(c)のような社会をめざすために、地域社会ではどのような工夫が見られるか、資料Ⅴを参考にして、1つ書きなさい。

資料Ⅳ

《日本社会のグローバル化》

○交通手段や通信手段の発達によって、

・モノ・カネ・情報が容易に国境をこえて移動できるようになった。

資料Ⅴ



問2 X にあてはまる語を書きなさい。2015 埼玉

人々が自発的に集まって、利益目的ではなく、公共の利益を達成するためにつくった団体を X と呼ぶ。これらの団体による社会貢献活動を支援するため、1998年に特定非営利活動促進法（ X 法）が制定された。

問3 A にあてはまるものを、あとの1～4の中から一つ選び、その番号を書きなさい。2013 神奈川

この日は、日本の伝統的な年中行事の一つである A にあたり、柏餅や粽を食べたり、菖蒲湯に入ったりする風習が各地にあります。

- 1 七五三 2 たんご 端午の節句 3 節分・豆まき 4 たなばた 七夕

公民全国答練 わたしたちの生活と現代社会

80点以上が合格！41～79点は再テスト！40点以下は宿題プレゼント！

第16回解答

問1 ①ヒト

② (例) 公共施設の案内板を, 多言語で表示する。

- ① 交通手段・通信手段の発達によって, ヒト・モノ・カネ・情報の移動が簡単になり, 世界の一体化が進んでいる。
- ② 資料Vには, 日本語以外に英語やハンゲル, 中国語が示されている。

問2 NPO

利益を目的とせず, 医療や福祉・環境保護などの運動を行う民間の団体をNPO (非営利組織) という。NGOは非政府組織である。

問3 2

1の七五三は11月, 3の節分・豆まきは2月, 4の七夕は7月の年中行事である

公民全国答練 わたしたちの生活と現代社会

80点以上が合格！41～79点は再テスト！40点以下は宿題プレゼント！

第17回

問1 50点 問2 30点 問3 20点

点

問1 ～ にあてはまるものの組み合わせとして

最も適するものを、次の1～4の中から一つ選び、その番号を書きなさい。2013 神奈川

先生：税の使い道については、国民の間でもさまざまな意見があります。こういうさまざまな意見がある場合には、どういう議論をすることが大切だと思いますか。

生徒：社会科で学習したように、多様な考え方や利害の違いがあることが、「」の状態だと思いますので、これを「」にもっていくよう、手続きや機会、結果について「」であるかどうかを考慮して、議論することが大切だと思います。

- | | | | |
|---|------|------|------|
| 1 | E：対立 | F：合意 | G：公正 |
| 2 | E：合意 | F：対立 | G：公正 |
| 3 | E：対立 | F：合意 | G：公共 |
| 4 | E：合意 | F：対立 | G：公共 |

問2 年中行事を、1月からの一年の中で行われる順に正しく並べたものを、次の1～6の中から一つ選び、その番号を書きなさい。2014 神奈川

- | | | | |
|---|----------------|---|----------------|
| 1 | お盆→ひな祭り→節分・豆まき | 2 | お盆→節分・豆まき→ひな祭り |
| 3 | ひな祭り→節分・豆まき→お盆 | 4 | ひな祭り→お盆→節分・豆まき |
| 5 | 節分・豆まき→お盆→ひな祭り | 6 | 節分・豆まき→ひな祭り→お盆 |

問3 にあてはまるものを、ひらがな2字で書きなさい。2015 神奈川

は、正月の食べ物と思われがちですが、本来、さまざまな祭りや年中行事などに欠かせない食材です。地域により形が異なり、西日本では丸 ，東日本では角 を食べる人が多いです。

公民全国答練 わたしたちの生活と現代社会

80点以上が合格！41～79点は再テスト！40点以下は宿題プレゼント！

第17回解答

問1 1

社会集団の中では、さまざまな意見を持つ人がいることから、対立がおこりやすい。対立から合意へと導くためには、手続きや機会、結果について公正であるように配慮する必要がある。

問2 6

節分・豆まきは2月，ひな祭りは3月，お盆は8月の年中行事である。

問3 もち

正月の食べ物であり，西日本と東日本では形が異なることから，もちがあてはまる。

公民全国答練 わたしたちの生活と現代社会

80点以上が合格！41～79点は再テスト！40点以下は宿題プレゼント！

第18回

問1 20点 問2 30点×2 問3 20点

点

問1 インターネットを利用する際に注意しなければならないことを、**情報**という語を用いて書きなさい。2014 青森

問2 次の文は、Aの中にある**民主主義**について述べたものである。**W**にあてはまる語句を**漢字3字**で、**X**にあてはまる語句を**漢字4字**で、それぞれ書きなさい。2014 福島

民主主義とは、みんなで意見や考えを出し、話し合って決定することである。しかし、現実には話し合っても全員の意見が一致するとは限らない。その場合は、より多くの支持を得た意見を採用するのが一般的である。これを**W**の原理という。その際に必要なことは**X**を尊重することである。

W : **X** :

問3 長く親しまれた「0系」新幹線は、1964年に東海道新幹線でデビューした。その当時のできごととして最も適当なものを、次のア～エの中から一つ選び、記号を書きなさい。2010 佐賀（後）

- ア 朝鮮戦争の影響で多くの商品の注文が舞いこみ、日本の経済発展の基礎が築かれた。
- イ 各家庭に白黒テレビや電気冷蔵庫などの家電品が普及し、家庭生活が豊かになった。
- ウ 第四次中東戦争の影響で、ガソリンや石油製品の価格が急激に上昇した。
- エ 多くの資金が株や土地に投資されてバブル経済となり、一時期、好景気になった。

公民全国答練 わたしたちの生活と現代社会

80点以上が合格！41～79点は再テスト！40点以下は宿題プレゼント！

第18回解答

問1 (例)・自分が必要としている情報を取捨選択する。

・自分の個人情報をしっかり管理する。

・他人に迷惑をかけるような情報を流通させない。

個人情報をむやみに出さない、インターネット上の情報を鵜呑みにしない、などの注意が必要である。

問2 **W** : 多数決 **X** : 少数意見

最も多くの人が賛成する意見を採用することを、多数決という。多数決によって決定するときは、少数意見も尊重しなければならない。

問3 **イ**

1964年は高度経済成長期で、白黒テレビや電気冷蔵庫などの家電製品が各家庭へ普及した。**ア**の朝鮮戦争の開始は1950年、**ウ**の第一次石油危機は1973年、**エ**のバブル経済は1980年代後半から。

公民全国答練 わたしたちの生活と現代社会

80点以上が合格！41～79点は再テスト！40点以下は宿題プレゼント！

第19回

問1 50点 問2 50点

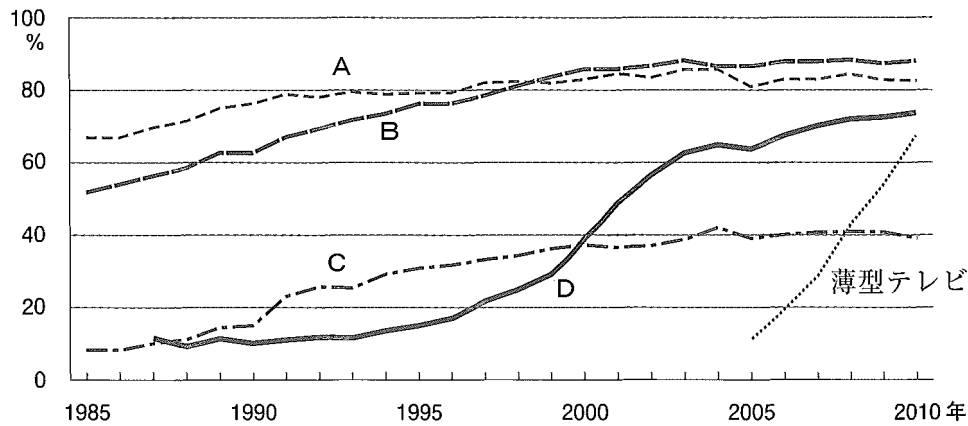
点

問1 資料3は日本における1985年以降の主な家電製品などの

普及率を示している。次の問いに答えなさい。2011 佐賀（前）

資料3のA～Dは下のア～エの家電製品などの普及率を示したものである。このうち、Dは何の普及率を示したのか。ア～エの中から一つ選び、記号を書きなさい。

資料3 日本における主な家電製品などの普及率



(総務省ホームページ資料より作成)

※Dは1987年からの調査データ、また薄型テレビについては2005年からの調査データを基に作成。

ア 乗用車

イ パソコン

ウ エアコン

エ ビデオカメラ

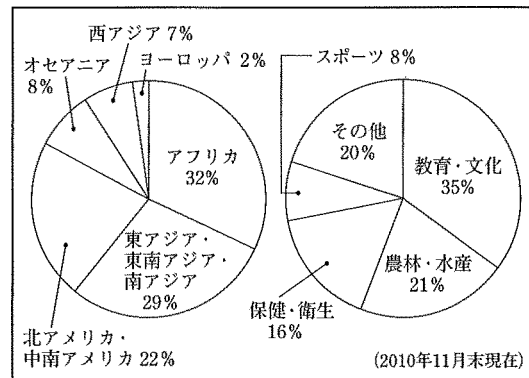
問2 下線部fに関連して、次の

文の()に当てはまる語句を書きなさい。ただし、2か所とも同一の語句である。

()は、日本政府による国際貢献の一つである。資料Iは、()がこれまでに派遣された地域と分野別の人数割合を示している。多くの国や地域で、さまざまな技術指導や教育などに従事し、経済発展や福祉の向上を支援している。

2012 大分

資料I 派遣された地域と分野別の人数割合



(2010年11月末現在)

公民全国答練 わたしたちの生活と現代社会

80点以上が合格！41～79点は再テスト！40点以下は宿題プレゼント！

第19回解説

問1 イ

Dは1990年代の後半から急速に普及率が高まり、2010年には70%以上になっていることから、パソコンと判断する。4つのうちで最も早くから普及率が高くなっているAは乗用車、2010年の普及率が最も高いBはエアコン、普及率が約40%のCがビデオカメラである。

問2 青年海外協力隊

日本政府による国際貢献には政府開発援助（ODA）や、教育や農林・水産などの分野で専門的な技術を持つ若者をアジアやアフリカなどの国々に派遣し、その国の経済や社会の発展に協力する青年海外協力隊などがある。

公民全国答練 わたしたちの生活と現代社会

80点以上が合格！41～79点は再テスト！40点以下は宿題プレゼント！

第20回

20点×5

点

問1 1950年代後半から1970年代初めにかけて日本経済は大きく発展し、国民の所得は増え、消費も拡大した。このことを何というか。2010 鹿児島

問2 国境をこえて国際的な活動に取り組む、民間の非政府組織を何というか、アルファベット三文字で答えなさい。2010 鳥取

問3 (c)に入る適切な語句を、答えなさい。2010 鳥取

2002年、南アフリカ共和国で、「(c)な開発に関する世界首脳会議(環境・開発サミット)」が開催されました。現在わが国は、地球環境を守り、環境への負担の少ない、(c)な発展を続ける社会をつくらうとしています。

問4 電気洗濯機、電気冷蔵庫、テレビの普及などが進んだ高度経済成長の時期には、人々の生活が豊かになる一方で、様々な社会問題が発生した。高度経済成長の時期に見られた社会問題について、次の条件①・②に従って簡潔に説明しなさい。

条件

- ① 解答の書き出しに続けて、書き始めること。
- ② 都市と農村について、それぞれ問題点をあげること。

公害問題が発生し、大気汚染などによって生活環境が悪化した。

また、()

問5 インターネットの利用について述べた文として誤っているものを、次のア～エから一つ選んで記号で答えなさい。

- ア 海外の情報も手軽に入手することができる。
- イ まちがった情報がないので安心して利用できる。
- ウ 氏名や生年月日などの個人情報流出のおそれがある。
- エ コンピュータウイルスに感染する危険性がある。

公民全国答練 わたしたちの生活と現代社会

80点以上が合格！41～79点は再テスト！40点以下は宿題プレゼント！

第20回解答

問1 高度経済成長

問2 NGO

問3 持続可能

問4 (例) 都市では、人口が集中して過密状態となり、交通渋滞などの問題がおり、
農村では、過疎状態となり、後継者不足などの問題が生じた。

問5 イ

インターネット上の情報は、正しいものもあればそうでないものもあるので、情報を得るときは注意する必要がある。